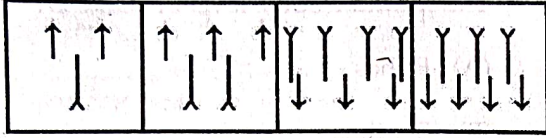


1. जोधपुर शहर की स्थापना किसने की ?
 (A) राव मालदेव (B) राव चून्डा
 (C) राव रावल (D) राव जोधा
 (E) अनुत्तरित प्रश्न
 2. राजस्थान सरकार की नवीनतम आर्थिक समीक्षा 2023-24 के अनुसार, वित्त वर्ष 2023-24 में राजस्थान की आय में कृषि क्षेत्र का योगदान कितना है ?
 नीचे दिए गए विकल्पों में से सबसे उपयुक्त उत्तर चुनें।
 (A) 26.72% (B) 22.60%
 (C) 21.35% (D) 30.85%
 (E) अनुत्तरित प्रश्न
 3. निम्नलिखित में से कौन सा तत्वों को वर्गीकृत करने की श्रेणी नहीं है ?
 (A) उपधातुएँ (B) धातुकर्म
 (C) धातुएँ (D) अधातुएँ
 (E) अनुत्तरित प्रश्न
 4. RTI अधिनियम के निम्नलिखित प्रावधानों में से कौन सा अनुरोधकर्ताओं द्वारा प्रथम अपील के बारे में बताता है ?
 (A) धारा 7(5) (B) धारा 20(1)
 (C) धारा 19(1) (D) धारा 8(1)
 (E) अनुत्तरित प्रश्न
 5. वह विकल्प चुनें जो अन्य तीन विकल्पों से भिन्न है :
 (A) समलम्ब चतुर्भुज (B) पंचभुज
 (C) आयत (D) समचतुर्भुज
 (E) अनुत्तरित प्रश्न
 6. सूचना का अधिकार अधिनियम, 2005 (RTI अधिनियम) प्रत्येक सार्वजनिक प्राधिकरण के कामकाज में निम्नलिखित में से किस गुण को बढ़ावा देने का प्रयास करता है ?
 नीचे दिए गए विकल्पों में से सबसे उपयुक्त उत्तर चुनें।
 (A) पारदर्शिता (B) दक्षता
 (C) प्रतिष्ठा (D) समय की पाबंदी
 (E) अनुत्तरित प्रश्न
1. Who founded the city of Jodhpur ?
 (A) Rao Maldeo (B) Rao Chunda
 (C) Rao Rawal (D) Rao Jodha
 (E) Question not attempted
 2. What is the Agricultural sector's contribution to Rajasthan's income in FY 2023-24, according to the latest Economic Review 2023-24 by the Government of Rajasthan ?
 Choose the **most appropriate** answer from the options given below.
 (A) 26.72% (B) 22.60%
 (C) 21.35% (D) 30.85%
 (E) Question not attempted
 3. Which of the following is **not** a category for classifying the elements ?
 (A) Metalloids (B) Metallurgy
 (C) Metals (D) Non-metals
 (E) Question not attempted
 4. Which one of the following provisions of the RTI Act elaborate on first appeals by requesters ?
 (A) Section 7(5) (B) Section 20(1)
 (C) Section 19(1) (D) Section 8(1)
 (E) Question not attempted
 5. Select the one which is different from other three alternatives :
 (A) Trapezium (B) Pentagon
 (C) Rectangle (D) Rhombus
 (E) Question not attempted
 6. The Right to Information Act, 2005 (RTI Act) seeks to promote which of the following qualities in the working of every public authority ?
 Choose the **most appropriate** answer from the options given below.
 (A) Transparency (B) Efficiency
 (C) Reputation (D) Punctuality
 (E) Question not attempted

7. निम्नलिखित अनुक्रम में अगली संख्या क्या है ?
77, 49, 36, 18, _____

- (A) 8 (B) 6
(C) 7 (D) 9
(E) अनुत्तरित प्रश्न

8. निम्नलिखित आकृतियों में से कौन सी आकृति बाकी से भिन्न है ?



- (a) (b) (c) (d)
(A) (a) (B) (d)
(C) (c) (D) (b)
(E) अनुत्तरित प्रश्न

9. दिए गए शब्दों के जोड़े में एक-को छोड़कर एक सामान्य संबंध है। बेमेल (भिन्न) का चयन कीजिए।

- (A) शराब : अंगूर (B) बेल्ट : चमड़ा
(C) सोना : चांदी (D) कागज़ : लकड़ी
(E) अनुत्तरित प्रश्न

10. एक कूट (कोड) भाषा में, 'ROCKET' को 'CROTKE' लिखा जाता है। उस भाषा में 'SEARCH' को कैसे लिखा जाएगा ?

- (A) ASECHR (B) ASECRH
(C) ASEHRC (D) ASEHCR
(E) अनुत्तरित प्रश्न

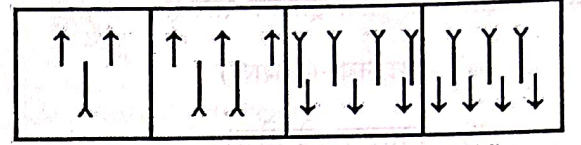
11. निम्नलिखित में से कौन सा दर्पण/लेंस सौर भट्टियों, मशालों, सर्च लाइटों और वाहनों की हेडलाइट्स में उपयोग किया जाता है ?

- (A) अवतल दर्पण (B) समतल दर्पण
(C) उत्तल लेंस (D) उत्तल दर्पण
(E) अनुत्तरित प्रश्न

7. What is the next number in the following sequence ?
77, 49, 36, 18, _____

- (A) 8 (B) 6
(C) 7 (D) 9
(E) Question not attempted

8. Amongst the following figures, which one is different from the rest ?



- (a) (b) (c) (d)
(A) (a) (B) (d)
(C) (c) (D) (b)
(E) Question not attempted

9. The given pair of words share a common relationship except one. Choose the odd one out.

- (A) Wine : Grapes (B) Belt : Leather
(C) Gold : Silver (D) Paper : Wood
(E) Question not attempted

10. In a code language, 'ROCKET' is written as 'CROTKE'. How will 'SEARCH' be written in that language ?

- (A) ASECHR (B) ASECRH
(C) ASEHRC (D) ASEHCR
(E) Question not attempted

11. Which of the following mirror/lens is used in solar furnaces, torches, search lights and headlights of vehicles ?

- (A) Concave Mirror (B) Plane Mirror
(C) Convex Lens (D) Convex Mirror
(E) Question not attempted

12. 2023-24 में राजस्थान निम्नलिखित में से किस प्रकार के तिलहन का अग्रणी उत्पादक था। निम्नलिखित में से पहचानें :
नीचे दिए गए विकल्पों में से सबसे उपयुक्त उत्तर चुनें।

(A) सरसों (B) अरंडी के बीज
(C) सोयाबीन (D) अलसी
(E) अनुत्तरित प्रश्न

13. झील में दूसरा ट्रॉफिक स्तर है :

(A) मछलियाँ (फिशज़)
(B) नितलक (बेन्थोस)
(C) प्राणिप्लवक (ज़ोप्लांकटन)
(D) पादपप्लवक (फाइटोप्लांकटन)
(E) अनुत्तरित प्रश्न

14. निम्नलिखित में से किसे “भारतीय संविधान का जनक” माना जाता है ?

(A) डॉ. बी.आर. अंबेडकर
(B) जवाहर लाल नेहरू
(C) डॉ. के.एम. मुंशी
(D) महात्मा गांधी
(E) अनुत्तरित प्रश्न

15. पाकिस्तान के साथ राजस्थान की पश्चिमी सीमा को _____ के नाम से जाना जाता है।

(A) डूरंड रेखा (B) कालापानी
(C) रेडक्लिफ (D) मैकमहोन रेखा
(E) अनुत्तरित प्रश्न

16. दी गई श्रृंखला में लुप्त संख्या x ज्ञात कीजिए :

59, 68, 77, 83, 89, 92, x
(A) 99 (B) 95
(C) 98 (D) 97
(E) अनुत्तरित प्रश्न

12. In 2023-24, Rajasthan was the leading producer of one of the following types of oilseeds. Identify from the following :

Choose the **most appropriate** answer from the options given below.

(A) Mustard (B) Castor seed
(C) Soya Bean (D) Linseed
(E) Question not attempted

13. The second trophic level in a lake is :

(A) Fishes
(B) Benthos
(C) Zooplankton
(D) Phytoplankton
(E) Question not attempted

14. Who among the following is recognised as the “Father of the Indian Constitution” ?

(A) Dr. B.R. Ambedkar
(B) Jawahar Lal Nehru
(C) Dr. K.M. Munshi
(D) Mahatma Gandhi
(E) Question not attempted

15. The western boundary of Rajasthan with Pakistan is known as _____.

(A) Durand Line (B) Kalapani
(C) Radcliffe (D) McMahon Line
(E) Question not attempted

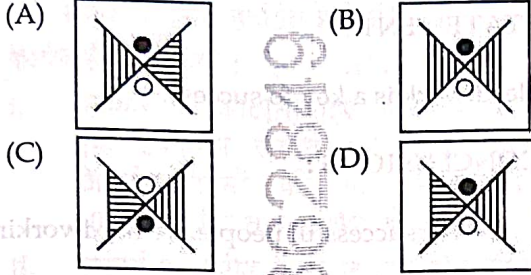
16. Find the missing number x in the given series :

59, 68, 77, 83, 89, 92, x
(A) 99 (B) 95
(C) 98 (D) 97
(E) Question not attempted

17. दी गई आकृति (X) का सही जल प्रतिबिंब चुनें।



(X)



(E) अनुत्तरित प्रश्न

18. यदि PAPER को 16-0-16-0-18 के रूप में कूटित (कोडित) किया गया है, तो आप PENCIL को कैसे कोडित करेंगे ?

- (A) 16-0-14-3-0-12 (B) 16-0-14-0-0-3
(C) 16-5-14-3-9-12 (D) 16-5-9-12-0-3
(E) अनुत्तरित प्रश्न

19. फड़ कलाकार श्रीलाल जोशी का संबंध है:

- (A) बीकानेर (B) जोधपुर
(C) भीलवाड़ा (D) चूरू
(E) अनुत्तरित प्रश्न

20. निम्न प्रश्न में एक कथन और उसके बाद दो तर्क I और II दिए गए हैं। निर्णय कीजिए कि निम्न में से कौन सा/से तर्क मजबूत है/हैं ?

कथन :

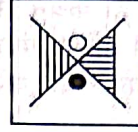
क्या प्राथमिक विद्यालय की कैंटीन में वातित पेय पर प्रतिबंध लगाया जाना चाहिए ?

तर्क :

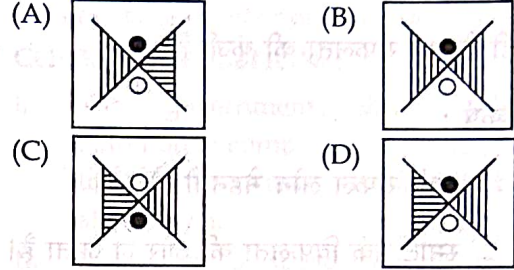
- I. हाँ। यह बच्चों के स्वास्थ्य पर प्रतिकूल प्रभाव डालता है।
II. नहीं। यह छात्रों को तय करना है कि उन्हें वातित पेय खरीदना है या नहीं।

- (A) केवल तर्क II मजबूत है।
(B) या तो I या II मजबूत है।
(C) I और II दोनों मजबूत हैं।
(D) केवल तर्क I मजबूत है।
(E) अनुत्तरित प्रश्न

17. Choose the correct water image of the given figure (X).



(X)



(E) Question not attempted

18. If PAPER is coded as 16-0-16-0-18, how will you code PENCIL ?

- (A) 16-0-14-3-0-12 (B) 16-0-14-0-0-3
(C) 16-5-14-3-9-12 (D) 16-5-9-12-0-3
(E) Question not attempted

19. The Phad artist Shrilal Joshi belongs to :

- (A) Bikaner (B) Jodhpur
(C) Bhilwara (D) Churu
(E) Question not attempted

20. The question given below consists of a statement followed by two arguments I and II. Decide which of the argument(s) is/are strong ?

STATEMENT :

Should aerated drinks be banned in primary school canteens ?

ARGUMENTS :

- I. Yes. It adversely affects the health of kids.
II. No. It's for the students to decide whether to buy the aerated drinks or not.

- (A) Only argument II is strong
(B) Either I or II is strong
(C) Both I and II are strong
(D) Only argument I is strong
(E) Question not attempted

21. दिए गए प्रश्न में दो निष्कर्ष (I और II) दिए गए हैं, जिनके पहले एक कथन दिया गया है। कथन में दी गई जानकारी को सत्य मानते हुए, किसी उचित संदेह से परे तार्किक रूप से निकाले गए निष्कर्ष का चयन करें।

कथन :

कड़ी मेहनत सफलता की कुंजी है।

निष्कर्ष :

- I. सभी सफल लोग मेहनती होते हैं।
- II. स्मार्ट वर्क विफलता की ओर ले जाता है।

(A) केवल निष्कर्ष II अनुसरण करता है।

(B) न तो I और न ही II अनुसरण करता है।

(C) I और II दोनों अनुसरण करते हैं।

(D) केवल निष्कर्ष I अनुसरण करता है।

(E) अनुत्तरित प्रश्न

22. राजस्थान के किस इतिहासकार एवं पुरातत्ववेत्ता ने प्रसिद्ध ग्रन्थ 'लिपिमाला' लिखा है ?

(A) दयालदास

(B) कविराज श्यामल दास

(C) गौरीशंकर हीराचंद ओझा

(D) बावजी चतुर सिंह

(E) अनुत्तरित प्रश्न

21. In the given question, two conclusions (I and II) are followed by a statement. Assume the information given in the statement to be true, select a logically drawn conclusion beyond a reasonable doubt.

STATEMENT:

Hard work is a key to success.

CONCLUSIONS :

- I. All successful people are hardworking.
- II. Smart work leads to failure.

(A) Only conclusion II follows.

(B) Neither I nor II follows.

(C) Both I and II follow.

(D) Only conclusion I follows.

(E) Question not attempted

22. Which historian and archaeologist of Rajasthan wrote the famous text 'Lipimala' ?

(A) Dayaldas

(B) Kaviraj Shyamal Das

(C) Gaurishankar Heerachand Ojha

(D) Bavji Chatur Singh

(E) Question not attempted

23. नीचे दिए गए कथन में दी गई सभी बातों को सत्य मानते हुए, तय करें कि निम्नलिखित में से कौन सी कार्यवाही के तरीके तार्किक रूप से सही है ?

कथन :

सड़क दुर्घटनाओं और वाहनों द्वारा अधिक गति से वाहन चलाने के बीच एक मजबूत संबंध पाया गया है, जिससे बड़ी संख्या में लोग हताहत होते हैं।

कार्यवाही के तरीके :

- सरकार को ऑटोमोबाइल कंपनियों को वाहनों में एक उपकरण लगाने का निर्देश देना चाहिए, जिससे वाहनों की गति स्वचालित रूप से 50 किमी/घंटा तक सीमित हो जाए।
- सड़कों पर स्पीड कैमरे लगाना और उल्लंघन करने वालों पर भारी चालान लगाना।

(A) केवल II अनुसरण करता है।

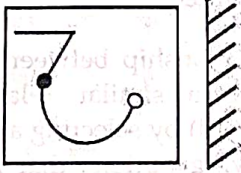
(B) न तो I और न ही II अनुसरण करता है।

(C) I और II दोनों अनुसरण करते हैं।

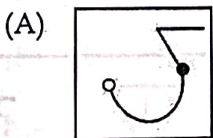
(D) केवल I अनुसरण करता है।

(E) अनुत्तरित प्रश्न

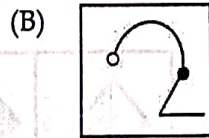
24. दी गई आकृति (X) का सही दर्पण प्रतिबिंब चुनें।



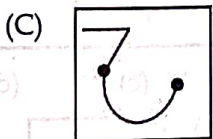
(X)



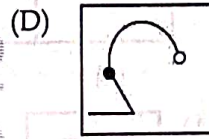
(A)



(B)



(C)



(D)

(E) अनुत्तरित प्रश्न

25. भारत का संविधान कब लागू हुआ ?

(A) 15 अगस्त 1947 (B) 26 जनवरी 1950

(C) 2 अक्टूबर 1948 (D) 26 नवंबर 1949

(E) अनुत्तरित प्रश्न

23. Assuming everything in the statement given below to be true, decide which of the following courses of action logically follow(s) ?

STATEMENT :

A strong correlation has been found between the road accidents and over-speeding by the vehicles causing large number of casualties.

COURSES OF ACTION :

- The government should direct the automobile companies to install a device in the vehicles to automatically limit the speed at 50 km/h.
- Installation of speed cameras on the roads and imposition of heavy challans on offenders.

(A) Only II follows.

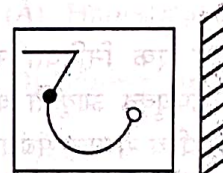
(B) Neither I nor II follows.

(C) Both I and II follow.

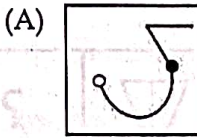
(D) Only I follows.

(E) Question not attempted

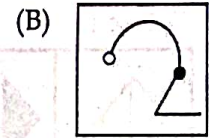
24. Choose the correct mirror image of the given figure (X).



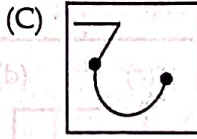
(X)



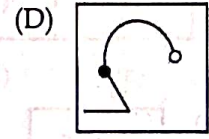
(A)



(B)



(C)



(D)

(E) Question not attempted

25. The Constitution of India came into force on :

(A) 15 August 1947 (B) 26 January 1950

(C) 2 October 1948 (D) 26 November 1949

(E) Question not attempted

26. निम्नलिखित श्रृंखला में प्रश्न चिह्न (?) के स्थान पर क्या आएगा ?
M14P, PM14, 4PM1, ?

- (A) 14PM (B) 1MP4
(C) 14MP (D) 1PM4
(E) अनुत्तरित प्रश्न


27. निम्नलिखित में से किसके पास किसी राज्य के राज्यपाल को पद से हटाने की शक्ति है ?

- (A) विधान सभा
(B) मुख्यमंत्री
(C) सभापति
(D) राष्ट्रपति
(E) अनुत्तरित प्रश्न

28. किसी अप्रत्याशित व्यय को पूरा करने के लिए राज्य की आकस्मिक निधि से कौन अधिम राशि दे सकता है ?

- (A) मुख्यमंत्री (B) गृह मंत्री
(C) राज्यपाल (D) वित्त मंत्री
(E) अनुत्तरित प्रश्न

29. आकृति (a) और (b) के बीच एक निश्चित संबंध है। निम्नलिखित विकल्पों में से उपयुक्त आकृति का चयन करके आकृति (c) और (d) के बीच समान संबंध स्थापित करें जो आकृति (d) में प्रश्न चिह्न (?) को प्रतिस्थापित करती है।



- (A) (B)
(C) (D)
(E) अनुत्तरित प्रश्न

26. What should come in place of question mark (?) in the following series ?

M14P, PM14, 4PM1, ?

- (A) 14PM (B) 1MP4
(C) 14MP (D) 1PM4
(E) Question not attempted


27. Who among the following has the power to remove the governor of a state from office ?

- (A) Legislative Assembly
(B) Chief Minister
(C) Speaker
(D) President
(E) Question not attempted

28. Who can make advances out of the Contingency Fund of the state to meet any unforeseen expenditure ?

- (A) Chief Minister (B) Home Minister
(C) Governor (D) Finance Minister
(E) Question not attempted

29. There is a definite relationship between figures (a) and (b). Establish a similar relationship between figures (c) and (d) by selecting a suitable figure from the following options that replaces the question mark (?) in figure (d).



- (A) (B)
(C) (D)
(E) Question not attempted

30. नीचे दिए गए प्रश्न में एक कथन और उसके बाद दो निष्कर्ष (I और II) दिए गए हैं। कथन को सत्य मानते हुए, तय करें कि उनमें से कौन सा निष्कर्ष कथन में दी गई जानकारी से तार्किक रूप से संदेह से परे अनुसरण करता है ?

कथन : मृत्यु अपरिहार्य है।

निष्कर्ष :

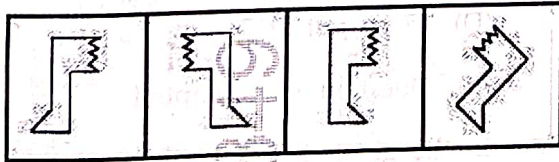
- I. मनुष्य नश्वर है।
II. जो लोग जन्म लेते हैं, उन्हें एक दिन मरना ही पड़ता है।

- (A) केवल निष्कर्ष II अनुसरण करता है।
(B) न तो I और न ही II अनुसरण करता है।
(C) I और II दोनों अनुसरण करते हैं।
(D) केवल निष्कर्ष I अनुसरण करता है।
(E) अनुत्तरित प्रश्न

31. राजस्थान के उत्तर में दो राज्य हैं :
नीचे दिए गए विकल्पों में से सबसे उपयुक्त उत्तर चुनें।

- (A) हरियाणा और उत्तर प्रदेश
(B) पंजाब और हरियाणा
(C) हरियाणा और गुजरात
(D) उत्तर प्रदेश और पंजाब
(E) अनुत्तरित प्रश्न

32. निम्नलिखित आकृतियों में से कौन सी आकृति बाकी से भिन्न है ?



(a) (b) (c) (d)

- (A) (b) (B) (d)
(C) (a) (D) (c)
(E) अनुत्तरित प्रश्न

30. In the question, given below is a statement followed by two conclusions (I and II). Assume the statement to be true, decide which of the conclusions logically follows from the information given in the statement beyond a reasonable doubt ?

STATEMENT : Death is inevitable.

CONCLUSIONS :

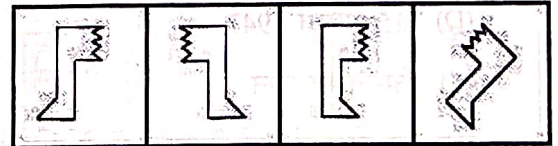
- I. Man is mortal.
II. Those who are born must die one day.

- (A) Only conclusion II follows.
(B) Neither I nor II follows.
(C) Both I and II follow.
(D) Only conclusion I follows.
(E) Question not attempted

31. The two states to the North of Rajasthan are :
Choose the **most appropriate** answer from the options given below.

- (A) Haryana and Uttar Pradesh
(B) Punjab and Haryana
(C) Haryana and Gujarat
(D) Uttar Pradesh and Punjab
(E) Question not attempted

32. Amongst the following figures, which one is different from the rest ?



(a) (b) (c) (d)

- (A) (b) (B) (d)
(C) (a) (D) (c)
(E) Question not attempted

33. यदि 'गुलाब' को 'सूरजमुखी', 'सूरजमुखी' को 'कमल', 'कमल' को 'चमेली' और 'चमेली' को 'लिली' के नाम से जाना जाता है, तो भारत के राष्ट्रीय फूल का नाम क्या होगा ?

- (A) लिली (B) चमेली
(C) सूरजमुखी (D) कमल
(E) अनुत्तरित प्रश्न

34. 1976 के किस संवैधानिक संशोधन अधिनियम द्वारा भारतीय संविधान की प्रस्तावना में 'धर्मनिरपेक्ष' शब्द जोड़ा गया था ?

- (A) 42वां (B) 44वां
(C) 43वां (D) 41वां
(E) अनुत्तरित प्रश्न

35. ए पी आई ओ (सहायक लोक सूचना अधिकारी) को सूचना के लिए आवेदन किसको अग्रपिहित करना होता है ?

- (A) लोक सूचना अधिकारी
(B) प्रथम अपीलीय प्राधिकारी
(C) द्वितीय अपीलीय प्राधिकारी
(D) प्राधिकरण का प्रमुख
(E) अनुत्तरित प्रश्न

36. भारतीय संविधान कब अपनाया गया था ?

- (A) 26 नवंबर 1950
(B) 26 नवंबर 1949
(C) 2 अक्टूबर 1948
(D) 15 अगस्त 1947
(E) अनुत्तरित प्रश्न

37. दिए गए प्रश्न में, चार विकल्पों में से तीन किसी तरह से समान हैं और एक भिन्न है। विषम (भिन्न) विकल्प को चुनें।

- (A) 91J (B) 37I
(C) 39L (D) 65K
(E) अनुत्तरित प्रश्न

33. If 'Rose' is known as 'Sunflower', 'Sunflower' is known as 'Lotus', 'Lotus' is known as 'Jasmine' and 'Jasmine' is known as 'Lily', then what would be the name of Indian National Flower ?

- (A) Lily (B) Jasmine
(C) Sunflower (D) Lotus
(E) Question not attempted

34. On which Constitutional Amendment Act of 1976, the term 'secular' was added to the Preamble of the Indian Constitution ?

- (A) 42nd (B) 44th
(C) 43rd (D) 41st
(E) Question not attempted

35. APIO (Assistant Public Information Officer) has to forward application for information to :

- (A) PIO (Public Information Officer)
(B) First Appellate Authority
(C) Second Appellate Authority
(D) The head of the Authority
(E) Question not attempted

36. The Indian Constitution was adopted on :

- (A) 26 November 1950
(B) 26 November 1949
(C) 2 October 1948
(D) 15 August 1947
(E) Question not attempted

37. In the given question, three of the four given options are alike in some manner and one is different. Choose the odd one out.

- (A) 91J (B) 37I
(C) 39L (D) 65K
(E) Question not attempted

A B C D E F G H I J K L M N O P Q R S T U V W X Y Z
1 2 3 4 5 6 7 8 9 10 11 12 13 14 15 16 17 18 19 20 21 22 23

38. एक निश्चित कोड में, BLACK को 29 लिखा जाता है। उसी कोड में WHITE को कैसे लिखा जाएगा ?

- (A) 65 (B) 23
(C) 56 (D) 92
(E) अनुत्तरित प्रश्न

39. निम्नलिखित श्रृंखला में प्रश्न चिह्न (?) के स्थान पर कौन सी संख्या आएगी ?

नीचे दिए गए विकल्पों में से चयन कीजिए।

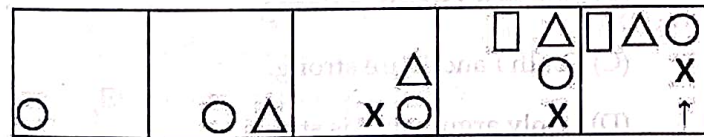
3, 4, 6, 8, 12, 13, 24, ?, 48, 26

- (A) 20 (B) 36
(C) 19 (D) 35
(E) अनुत्तरित प्रश्न

40. शाकंभरी के चौहान वंश के शासक का नाम बताइए, जिसे 'कविबांधव' की उपाधि दी गई थी।

- (A) अजयराज (B) विग्रहराज चतुर्थ
(C) पृथ्वीराज तृतीय (D) अर्णोराज
(E) अनुत्तरित प्रश्न

41. चार उत्तर आकृतियों में से कौन सी आकृति तार्किक रूप से श्रृंखला को पूरा करने के लिए प्रश्न आकृति के दाईं ओर आएगी ?



- (A) (B)
(C) (D)
(E) अनुत्तरित प्रश्न

38. In a certain code, BLACK is written as 29. How is WHITE written in that code ?

- (A) 65 (B) 23
(C) 56 (D) 92
(E) Question not attempted

39. What number should replace the question mark (?) in the following series ?

Choose from the options given below.

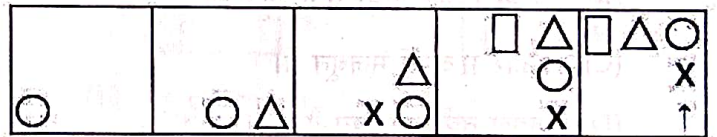
3, 4, 6, 8, 12, 13, 24, ?, 48, 26

- (A) 20 (B) 36
(C) 19 (D) 35
(E) Question not attempted

40. Name the ruler of the Chauhan dynasty of Shakambhari, who was given the title of 'Kavibandhava'.

- (A) Ajayraj (B) Vigraharaj IV
(C) Prithviraj III (D) Arnoraj
(E) Question not attempted

41. Which one from the four answer figures will come to the right of the problem figure to complete the series logically ?



- (A) (B)
(C) (D)
(E) Question not attempted

42. राजस्थान में निम्नलिखित में से किस प्रकार की मिट्टी सबसे अधिक क्षेत्र में पाई जाती है ?
नीचे दिए गए विकल्पों में से सबसे उपयुक्त उत्तर चुनें।

- (A) काली मिट्टी (B) लाल मिट्टी
(C) मरुस्थली (रेगिस्तानी) मिट्टी (D) जलोढ़ मिट्टी
(E) अनुत्तरित प्रश्न

43. 18 अप्रैल 2024 को 'विश्व धरोहर दिवस' के अवसर पर 'जयपुर वैक्स म्यूजियम' में किसकी प्रतिमा का अनावरण किया गया ?

- (A) लता मंगेशकर (B) नरेंद्र मोदी
(C) विराट कोहली (D) सचिन तेंदुलकर
(E) अनुत्तरित प्रश्न

44. नीचे दिए गए प्रश्न में एक कथन के बाद दो तर्क I और II दिए गए हैं। तय करें कि कौन सा/से तर्क मजबूत है/हैं ?

कथन :

क्या भारत जैसे देश में केवल दो राजनीतिक दल होने चाहिए ?

तर्क :

- I. हाँ। इससे चुनाव प्रक्रिया आसान हो जाएगी।
II. नहीं। भारत जैसे देश में जहाँ कई क्षेत्रीय आकांक्षाएँ हैं, क्षेत्रीय दलों की भी आवश्यकता है।

- (A) केवल तर्क II मजबूत है।
(B) न तो I और न ही II मजबूत है।
(C) I और II दोनों मजबूत हैं।
(D) केवल तर्क I मजबूत है।
(E) अनुत्तरित प्रश्न

45. बनी-ठनी राजस्थान की किस चित्रकला शैली से संबंधित है ?

- (A) मारवाड़ (B) किशनगढ़
(C) बीकानेर (D) कोटा
(E) अनुत्तरित प्रश्न

42. Which of the following types of soil occupies the largest area in Rajasthan ?

Choose the **most appropriate** answer from the options given below.

- (A) Black Soil (B) Red Soil
(C) Desert Soil (D) Alluvial Soil
(E) Question not attempted

43. Whose statue was unveiled in 'Jaipur Wax Museum' on the occasion of 'World Heritage Day' on 18th April 2024 ?

- (A) Lata Mangeshkar (B) Narendra Modi
(C) Virat Kohli (D) Sachin Tendulkar
(E) Question not attempted

44. The question given below consists of a statement followed by two arguments I and II. Decide which of the argument(s) is/are strong ?

STATEMENT :

Should there be only two political parties in a country like India ?

ARGUMENTS :

- I. Yes. It will make the election process easier.
II. No. In a country like India where there are several regional aspirations, regional parties are also required.

- (A) Only argument II is strong.
(B) Neither I nor II is strong.
(C) Both I and II are strong.
(D) Only argument I is strong.
(E) Question not attempted

45. Bani-Thani is associated with which school of painting of Rajasthan ?

- (A) Marwar (B) Kishangarh
(C) Bikaner (D) Kota
(E) Question not attempted


46. अशमित ने अपनी पत्नी रीमा का परिचय रीति से अपनी माँ के पति के बेटे सुमित की पत्नी के रूप में कराया। अशमित रीति से किस प्रकार संबंधित है ?

- (A) चाचा (B) भाई
(C) बहनोई (D) चचेरा भाई
(E) अनुत्तरित प्रश्न

47. 18वें 'प्रवासी भारतीय दिवस कन्वेंशन-2025' को कौन सा शहर आयोजित करेगा ?

- (A) भोपाल (B) हैदराबाद
(C) चेन्नई (D) भुवनेश्वर
(E) अनुत्तरित प्रश्न

48. चार विकल्प आकृतियों में से कौन सी आकृति तार्किक रूप से श्रृंखला को पूरा करने के लिए प्रश्न आकृति के दाईं ओर आएगी ?



(प्रश्न आकृति)

- (A) (B)
(C) (D)

(E) अनुत्तरित प्रश्न

49. निम्नलिखित में से कौन सा जोड़ा बेमेल (भिन्न) है ?

- (A) कुर्सी : फर्नीचर
(B) गुलाब : फूल
(C) केला : सेब
(D) फ्रॉक : ड्रेस (पोशाक)
(E) अनुत्तरित प्रश्न

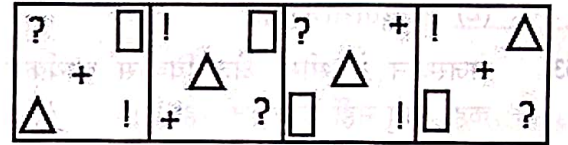
46. Ashmit introduced Riti as the wife of his mother's husband's son Sumit to his wife Reema. How is Ashmit related to Riti ?

- (A) Uncle (B) Brother
(C) Brother-in-law (D) Cousin
(E) Question not attempted

47. Which city is the host of the 18th 'Pravasi Bhartiya Divas Convention-2025' ?

- (A) Bhopal (B) Hyderabad
(C) Chennai (D) Bhubaneswar
(E) Question not attempted

48. Which one from the four option figures will come to the right of the problem figure to complete the series logically ?



(Problem figure)

- (A) (B)
(C) (D)

(E) Question not attempted

49. Which of the following pairs is the odd one out ?

- (A) Chair : Furniture
(B) Rose : Flower
(C) Banana : Apple
(D) Frock : Dress
(E) Question not attempted

50. किस राज्य ने मजदूरों और फुटपाथ विक्रेताओं के लिए 'मुख्यमंत्री विश्वकर्मा पेंशन योजना' नवम्बर 2024 में शुरू करने की घोषणा की है ?

- (A) गुजरात (B) महाराष्ट्र
(C) राजस्थान (D) दिल्ली
(E) अनुत्तरित प्रश्न

51. एक कूट (कोड) भाषा में, 'ENGLISH' को 'VMTORHS' लिखा जाता है। उसी भाषा में 'HINDI' को कैसे लिखा जाएगा ?

- (A) SRMWR (B) SRMVR
(C) SROWR (D) SRNVR
(E) अनुत्तरित प्रश्न

52. लच्छीराम किस लोक नाटक से संबंधित है ?

- (A) कुचामनी ख्याल (B) जयपुरी ख्याल
(C) हेला ख्याल (D) शेखावाटी ख्याल
(E) अनुत्तरित प्रश्न

53. राजस्थान में सीमा क्षेत्र विकास कार्यक्रम (बीएडीपी) कहाँ लागू नहीं किया जा रहा है ? नीचे दिए गए विकल्पों में से सबसे उपयुक्त उत्तर चुनें।

- (A) श्रीगंगानगर (B) जैसलमेर
(C) बाड़मेर (D) अलवर
(E) अनुत्तरित प्रश्न

54. भारत की 20वीं पशुधन जनगणना के अनुसार, निम्नलिखित में से कौन सा राज्य पशुधन जनसंख्या के मामले में शीर्ष पर है ?

- (A) राजस्थान (B) मध्य प्रदेश
(C) पश्चिम बंगाल (D) उत्तर प्रदेश
(E) अनुत्तरित प्रश्न

55. भरतपुर और अलवर क्षेत्र का प्रसिद्ध लोक नृत्य है :

- (A) घूमर (B) गरबा
(C) भवाई नृत्य (D) बम नृत्य
(E) अनुत्तरित प्रश्न

50. Which state has made the announcement to launch 'Mukhyamantri Vishwakarma Pension Scheme' in November 2024 for laborers and street vendors ?

- (A) Gujarat (B) Maharashtra
(C) Rajasthan (D) Delhi
(E) Question not attempted

51. In a code language, 'ENGLISH' is written as 'VMTORHS'. How will 'HINDI' be written in the same language ?

- (A) SRMWR (B) SRMVR
(C) SROWR (D) SRNVR
(E) Question not attempted

52. Lachhiram/Lacchiram is related to which folk drama ?

- (A) Kuchamani Khyal (B) Jaipuri Khyal
(C) Hela Khyal (D) Shekhawati Khyal
(E) Question not attempted

53. In Rajasthan, the Border Area Development Programme (BADP) is NOT being implemented in :

Choose the most appropriate answer from the options given below.

- (A) Sriganganagar (B) Jaisalmer
(C) Barmer (D) Alwar
(E) Question not attempted


54. According to 20th livestock census of India, which of the following states is on the top of Livestock Population ?

- (A) Rajasthan (B) Madhya Pradesh
(C) West Bengal (D) Uttar Pradesh
(E) Question not attempted

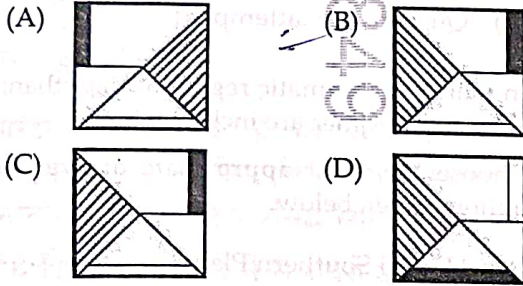
55. The famous folk dance of the regions of Bharatpur and Alwar is the :

- (A) Ghoomar (B) Garba
(C) Bhawai Dance (D) Bam Dance
(E) Question not attempted

56. निम्नलिखित में से कौन सी आकृति को आकृति (X) के रिक्त स्थान में रखने पर पैटर्न पूरा होगा ?



(X)




(E) अनुत्तरित प्रश्न

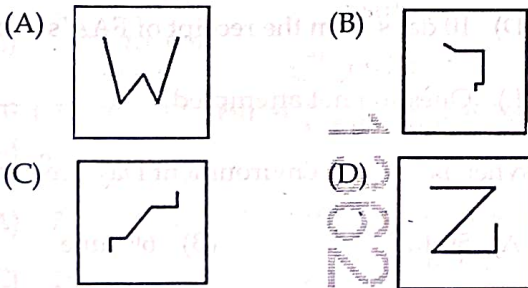
57. जब अधातुएँ ऑक्सीजन के साथ प्रतिक्रिया करती हैं, तो _____ नहीं बनते हैं।

- (A) धातु ऑक्साइड (B) अधातु ऑक्साइड
(C) कार्बन डाइऑक्साइड (D) जल
(E) अनुत्तरित प्रश्न

58. निम्नलिखित में से कौन सी आकृति, आकृति (X) में दिए गए पैटर्न में निहित है ?




(X)

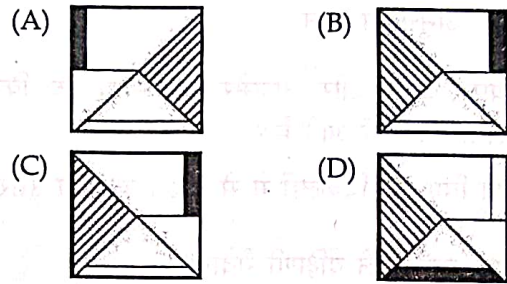


(E) अनुत्तरित प्रश्न

56. Which of the following figures when placed in the blank space of fig. (X) would complete the pattern ?



(X)




(E) Question not attempted

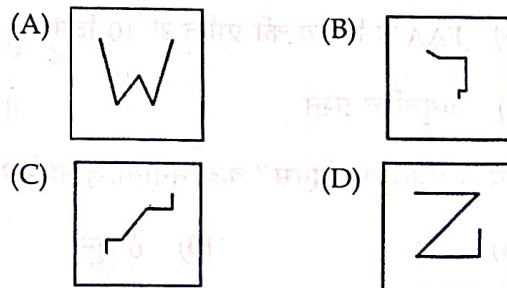
57. When non-metals react with oxygen, _____ is/are NOT formed.

- (A) Metal oxides (B) Non-metal oxides
(C) Carbon dioxide (D) Water
(E) Question not attempted

58. Which of the following figure is embedded in the pattern given in fig. (X) ?

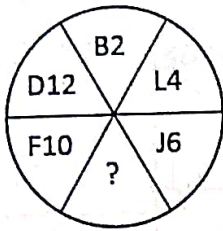


(X)



(E) Question not attempted

59. प्रश्न चिह्न का मान क्या है ?



- (A) K8 (B) H8
(C) H7 (D) H2
(E) अनुत्तरित प्रश्न

60. जयपुर, दौसा और अजमेर राजस्थान के किस कृषि जलवायु क्षेत्र में आते हैं ?

नीचे दिए गए विकल्पों में से सबसे उपयुक्त उत्तर चुनें।

- (A) नमी वाले दक्षिणी मैदान
(B) उप-नमी वाले दक्षिणी मैदान
(C) अर्द्ध-शुष्क पूर्वी मैदान
(D) बाढ़ प्रवण पूर्वी मैदान
(E) अनुत्तरित प्रश्न

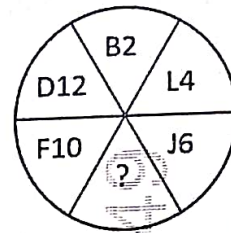
61. RTI अधिनियम की धारा 19 की उपधारा (3) के तहत दूसरी अपील दायर करने की समय सीमा है :

- (A) FAA के निर्णय की प्राप्ति से 90 दिन
(B) FAA के निर्णय की प्राप्ति से 40 दिन
(C) FAA के निर्णय की प्राप्ति से 30 दिन
(D) FAA के निर्णय की प्राप्ति से 10 दिन
(E) अनुत्तरित प्रश्न

62. "विश्व पर्यावरण दिवस" कब मनाया जाता है ?

- (A) 5 जून (B) 6 जून
(C) 14 अगस्त (D) 15 अगस्त
(E) अनुत्तरित प्रश्न

59. What is the value of question mark ?



- (A) K8 (B) H8
(C) H7 (D) H2
(E) Question not attempted

60. In which agroclimatic region of Rajasthan; Jaipur, Dausa and Ajmer are included ?

Choose the **most appropriate** answer from the options given below.

- (A) Humid Southern Plain
(B) Sub-humid Southern Plain
(C) Semi-arid Eastern Plain
(D) Flood prone Eastern Plain
(E) Question not attempted

61. Time limit for filing second appeal under Sub-section (3) of Section 19 of the RTI Act is :

- (A) 90 days from the receipt of FAA's decision
(B) 40 days from the receipt of FAA's decision
(C) 30 days from the receipt of FAA's decision
(D) 10 days from the receipt of FAA's decision
(E) Question not attempted

62. When is "World Environment Day" celebrated ?

- (A) 5th June (B) 6th June
(C) 14th August (D) 15th August
(E) Question not attempted

63. भौतिक परिवर्तन के बारे में निम्नलिखित में से कौन सा कथन सही है ?

- (A) उन्हें आसानी से उलटा नहीं किया जा सकता है।
- (B) भौतिक गुण जैसे आकृति, आमाप/आकार, रंग अथवा अवस्था नहीं बदलते।
- (C) एक या एक से अधिक नए पदार्थ बनते हैं।
- (D) पदार्थ की रासायनिक संरचना अपरिवर्तित रहती है।
- (E) अनुत्तरित प्रश्न

64. टंगस्टन एक खनिज है जिसका उपयोग बल्बों के फिलामेंट बनाने के लिए किया जाता है। राजस्थान में टंगस्टन अयस्क का एक प्रसिद्ध स्थान है :

नीचे दिए गए विकल्पों में से सबसे उपयुक्त उत्तर चुनें।

- (A) राजसमन्द – बामनिया
- (B) भीलवाड़ा – रेवाना
- (C) अजमेर – कायर
- (D) नागौर – डेगाना
- (E) अनुत्तरित प्रश्न

65. पूजा मीरा की बेटी है। मीरा राजू की इकलौती बहन है जिसकी माँ मालती है। राकेश मालती का दामाद है। राकेश पूजा से इस प्रकार संबंधित है :

- (A) बहनोई
- (B) पिता
- (C) चाचा
- (D) भाई
- (E) अनुत्तरित प्रश्न

66. भारत के संविधान सभा में _____ महिला सदस्य शामिल थीं।

- (A) 7
- (B) 10
- (C) 15
- (D) 5
- (E) अनुत्तरित प्रश्न

63. Which of the following statements is correct about a physical change ?

- (A) They cannot be reversed easily.
- (B) The physical properties like shape, size, colour or state are not changed.
- (C) One or more new substances are formed.
- (D) The chemical composition of substance remains unchanged.
- (E) Question not attempted

64. Tungsten is a mineral used for making the filament of bulbs. A famous location of tungsten ore in Rajasthan is :

Choose the **most appropriate** answer from the options given below.

- (A) Rajsamand – Bamania
- (B) Bhilwara – Rewana
- (C) Ajmer – Kayar
- (D) Nagaur – Degana
- (E) Question not attempted

65. Pooja is the daughter of Meera. Meera is Raju's only sister whose mother is Malti. Malti's son-in-law is Rakesh. Rakesh is related to Pooja as :

- (A) Brother-in-law
- (B) Father
- (C) Uncle
- (D) Brother
- (E) Question not attempted

66. The Constituent Assembly of India included _____ women members.

- (A) 7
- (B) 10
- (C) 15
- (D) 5
- (E) Question not attempted

67. निम्नलिखित में से कौन-सी सूची केवल जैव-निम्नीकरणीय अपशिष्टों की है ?

नीचे दिए गए विकल्पों में से सबसे उपयुक्त उत्तर चुनें।

- (A) फलों और सब्जियों के छिलके, चमड़ा और सूती कपड़े, मवेशियों का गोबर और कृषि अपशिष्ट
- (B) एल्युमिनियम फॉयल, PVC, अंडे के छिलके, सूखे पत्ते और कागज
- (C) कांच के टुकड़े, चमड़ा, प्लास्टिक की बोतलें और कृषि अपशिष्ट
- (D) प्लास्टिक की बोतलें, पका हुआ भोजन, घरेलू जैविक अपशिष्ट, कागज और कार्डबोर्ड
- (E) अनुत्तरित प्रश्न

68. किसी जीन का वैकल्पिक रूप जो किसी एक लक्षण को नियंत्रित करता है, उसे कहते हैं :

- (A) प्रभावी (B) अप्रभावी
- (C) आनुवंशिकी (D) एलील
- (E) अनुत्तरित प्रश्न

69. निम्नलिखित श्रृंखला में लुप्त पद क्या है ?

630, 666, 691, 707, ?, 720

- (A) 712 (B) 708
- (C) 710 (D) 716
- (E) अनुत्तरित प्रश्न

70. अंतर्राष्ट्रीय क्रिकेट के इतिहास में 600 छक्के लगाने वाले दुनिया के पहले बल्लेबाज कौन बने हैं ?

- (A) रोहित शर्मा (B) डेविड वार्नर
- (C) क्विंटन डी कॉक (D) जोस बटलर
- (E) अनुत्तरित प्रश्न

67. Which of the following is a list of only bio-degradable wastes ?

Choose the **most appropriate** answer from the options given below.

- (A) Fruit and vegetable peels, leather and cotton clothes, cattle dung and agricultural waste
- (B) Aluminium foil, PVC, egg shells, dried leaves and paper
- (C) Glass pieces, leather, plastic bottles and agricultural wastes
- (D) Plastic bottles, cooked food, household organic waste, paper and cardboard
- (E) Question not attempted

68. The alternative form of a gene which controls any one character is called :

- (A) Dominance (B) Recessive
- (C) Genetics (D) Allele
- (E) Question not attempted

69. What is the missing term in the following series ?

630, 666, 691, 707, ?, 720

- (A) 712 (B) 708
- (C) 710 (D) 716
- (E) Question not attempted

70. Who has become the first batsman in the world to hit 600 sixes in the history of International Cricket ?

- (A) Rohit Sharma (B) David Warner
- (C) Quinton de Cock (D) Jos Buttler
- (E) Question not attempted

71. मानव शरीर में बड़ी आंत का कार्य मुख्य रूप से है :
नीचे दिए गए विकल्पों में से सबसे उपयुक्त उत्तर चुनें।

- (A) कार्बोहाइड्रेट को पचाना
- (B) पचे हुए भोजन से सभी पोषक तत्वों को अवशोषित करना
- (C) पानी और लवणों को अवशोषित करना और बिना पचे भोजन को बाहर निकालना
- (D) प्रोटीन को पचाना
- (E) अनुत्तरित प्रश्न

72. समवर्ती सूची का विचार _____ के संविधान से लिया गया है।

- (A) ऑस्ट्रेलिया (B) कनाडा
- (C) दक्षिण अफ्रीका (D) जर्मनी
- (E) अनुत्तरित प्रश्न

73. दी गई श्रृंखला में लुप्त पद ज्ञात कीजिए :

ZYO, XWP, VUQ, ?

- (A) STR (B) RTS
- (C) TRS (D) TSR
- (E) अनुत्तरित प्रश्न

74. उस नदी की पहचान करें जिस पर प्रसिद्ध चूलिया जलप्रपात स्थित है।

- (A) सरस्वती (B) चंबल
- (C) बेतवा (D) लूनी
- (E) अनुत्तरित प्रश्न

75. 2011 की जनगणना के अनुसार राजस्थान में सबसे अधिक जनसंख्या किस जिले की है ?

- (A) जालौर (B) जैसलमेर
- (C) जोधपुर (D) जयपुर
- (E) अनुत्तरित प्रश्न

71. The function of the large intestine in the human body is mainly to :

Choose the **most appropriate** answer from the options given below.

- (A) Digest the carbohydrates
- (B) Absorb all nutrients from the digested food
- (C) Absorb water and salts and excrete the undigested food
- (D) Digest the proteins
- (E) Question not attempted

72. The idea of the Concurrent List has been taken from the Constitution of _____.

- (A) Australia (B) Canada
- (C) South Africa (D) Germany
- (E) Question not attempted

73. Find the missing term in the given series :

ZYO, XWP, VUQ, ?

- (A) STR (B) RTS
- (C) TRS (D) TSR
- (E) Question not attempted

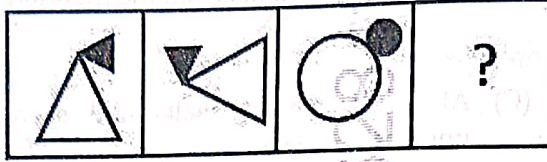
74. Identify the river on which the famous Chuliya Waterfall is located.

- (A) Saraswati (B) Chambal
- (C) Betwa (D) Luni
- (E) Question not attempted

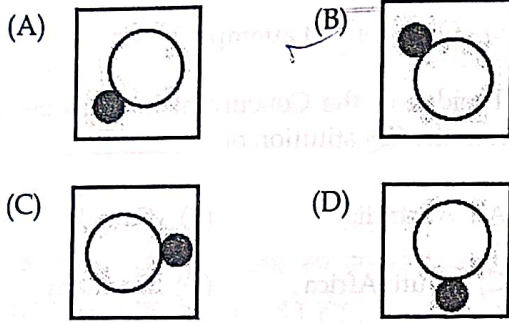
75. According to census 2011, which district has the highest population in Rajasthan ?

- (A) Jalore (B) Jaisalmer
- (C) Jodhpur (D) Jaipur
- (E) Question not attempted

76. आकृति (a) और (b) के बीच एक निश्चित संबंध है। दिए गए विकल्पों में से एक उपयुक्त आकृति का चयन करके आकृति (c) और (d) के बीच एक समान संबंध स्थापित करें जो आकृति (d) में प्रश्न चिह्न (?) को प्रतिस्थापित करती है।



(a) (b) (c) (d)



(E) अनुत्तरित प्रश्न


77. निम्नलिखित में से कौन सा राजस्थान परिवर्तन एवं नवाचार संस्थान (RITI) का उद्देश्य नहीं है?

नीचे दिए गए विकल्पों में से सबसे उपयुक्त उत्तर चुनें।

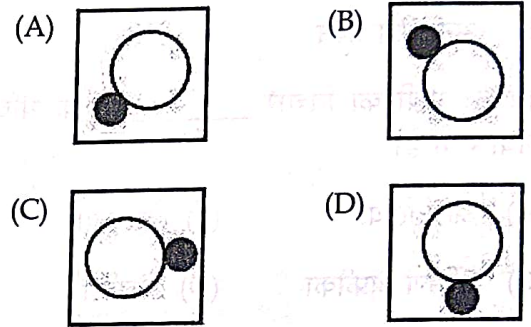
- (A) राज्य में उपलब्ध विभिन्न प्रकार के संसाधनों (भौतिक, वित्तीय, जनशक्ति) का अनुमान लगाना।
 (B) राज्य के संसाधनों का सर्वोत्तम उपयोग करने के लिए नीतिगत दिशानिर्देश तैयार करना।
 (C) आम लोगों के जीवन स्तर में सुधार के लिए तंत्र विकसित करना।
 (D) आईटी के क्षेत्र में छात्रों को प्रशिक्षण प्रदान करना।

(E) अनुत्तरित प्रश्न

76. There is a definite relationship between figures (a) and (b). Establish a similar relationship between (c) and (d) by selecting a suitable figure from the given options that replaces the question mark (?) in fig. (d).



(a) (b) (c) (d)



(E) Question not attempted

77. Which of the following is **not** an objective of the Rajasthan Institute of Transformation and Innovation (RITI) ?

Choose the **most appropriate** answer from the options given below.

- (A) To estimate various types of resources available in the state (physical, financial, manpower).
 (B) To prepare policy guidelines for making the best use of state resources.
 (C) To develop mechanisms to improve the standard of living of common people.
 (D) To provide training to students in the field of IT.

(E) Question not attempted

78. भूकंप तरंगों को मापने के लिए निम्नलिखित में से किस उपकरण का उपयोग किया जाता है ?

नीचे दिए गए विकल्पों में से सबसे उपयुक्त उत्तर चुनें।

- (A) वर्षामापी
- (B) सीस्मोग्राफ
- (C) अधिकतम और न्यूनतम थर्मामीटर
- (D) बैरोमीटर
- (E) अनुत्तरित प्रश्न

79. निम्नलिखित प्रश्न में, एक कथन के बाद I और II क्रमांकित कार्यवाही के तरीके दिए गए हैं। कथन को सत्य मानते हुए, तय करें कि कौन सा/से कार्यवाही के तरीके तार्किक रूप से अनुसरण करेगी ?

कथन :

पूरे देश में फर्जी कॉल के माध्यम से साइबर अपराध में तेजी से वृद्धि हुई है, जिससे नागरिकों को आर्थिक नुकसान हो रहा है।

कार्यवाही के तरीके :

- I. लोगों को स्मार्ट फोन खरीदने से हतोत्साहित किया जाना चाहिए।
- II. सेवा प्रदाताओं को संदिग्ध कॉल करने वालों से कॉल को चिह्नित करने के लिए कहा जाना चाहिए।

- (A) केवल II अनुसरण करता है।
- (B) या तो I या II अनुसरण करता है।
- (C) न तो I और न ही II अनुसरण करता है।
- (D) केवल I अनुसरण करता है।
- (E) अनुत्तरित प्रश्न

78. Which of the following instrument is used to measure Earthquake waves ?

Choose the **most appropriate** answer from the options given below.

- (A) Rain gauge
- (B) Seismograph
- (C) Max and Min Thermometer
- (D) Barometer
- (E) Question not attempted

79. In the following question, there is a statement followed by courses of action numbered I and II. Assuming the statement as true, decide which course(s) of action would logically follow ?

STATEMENT :

There has been a rapid rise in cybercrime through fake calls all over the country causing monetary losses to citizens.

COURSES OF ACTION :

- I. People should be discouraged from buying smart phones.
- II. The service providers should be asked to flag the calls from dubious callers.

- (A) Only II follows.
- (B) Either I or II follow.
- (C) Neither I nor II follows.
- (D) Only I follows.
- (E) Question not attempted

80. नीचे दिए गए प्रश्न में एक कथन और उसके बाद I और II से अंकित दो धारणाएँ हैं। कथन को सत्य मानते हुए, तय कीजिए कि निम्नलिखित में से कौन सी धारणा/धारणाएँ निहित है/हैं ?

कथन :

केवल अच्छे नर्तकों को एक नृत्य समारोह में आमंत्रित किया गया था। लचीले शरीर के बिना कोई भी व्यक्ति अच्छा नर्तक नहीं हो सकता।

धारणाएँ :

- I. नृत्य समारोह में आमंत्रित सभी नर्तकों का शरीर लचीला था।
- II. लचीले शरीर के बिना नर्तकों को नृत्य समारोह में आमंत्रित नहीं किया गया था।

(A) केवल धारणा II निहित है।

(B) या तो I या II निहित है।

(C) I और II दोनों निहित हैं।

(D) केवल धारणा I निहित है।

(E) अनुत्तरित प्रश्न

81. स्वर्णिम चतुर्भुज परियोजना के तहत राजस्थान में निम्नलिखित में से किस राष्ट्रीय राजमार्ग को जयपुर से अजमेर तक 6 लेन में परिवर्तित किया गया है ?

निम्नलिखित विकल्पों में से सबसे उपयुक्त उत्तर चुनें।

(A) राष्ट्रीय राजमार्ग संख्या 14

(B) राष्ट्रीय राजमार्ग संख्या 8

(C) राष्ट्रीय राजमार्ग संख्या 3

(D) राष्ट्रीय राजमार्ग संख्या 11

(E) अनुत्तरित प्रश्न

82. राजस्थान उच्च न्यायालय की पीठ _____ में है।

(A) चित्तौड़गढ़

(B) जैसलमेर

(C) जयपुर

(D) हनुमानगढ़

(E) अनुत्तरित प्रश्न

80. The question given below consists of a statement followed by two assumptions numbered I and II. Considering the statement as true, decide which of the following assumption(s) is/are implicit ?

STATEMENT :

Only good dancers were invited to a dance festival. No one without a flexible body is a good dancer.

ASSUMPTIONS :

I. All invited dancers in the dance festival had a flexible body.

II. Dancers without flexible body were not invited to the dance festival.

(A) Only assumption II is implicit.

(B) Either I or II is implicit.

(C) Both I and II are implicit.

(D) Only assumption I is implicit.

(E) Question not attempted

81. Which of the following National Highways in Rajasthan has been converted into 6 lane from Jaipur to Ajmer under Golden Quadrilateral Project ?

Choose the most appropriate answer from the following options.

(A) National Highway number 14

(B) National Highway number 8

(C) National Highway number 3

(D) National Highway number 11

(E) Question not attempted

82. The High Court of Rajasthan has its bench at _____.

(A) Chittorgarh

(B) Jaisalmer

(C) Jaipur

(D) Hanumangarh

(E) Question not attempted

83. नीचे दिए गए प्रश्न में, एक कथन के बाद दो कार्यवाही के तरीके (I और II) दिए गए हैं। कथन को एक तथ्य मानें, तय करें कि सुझाए गए कार्यवाही के कौन से तरीके तार्किक रूप से इसका अनुसरण करते हैं ?

कथन :

एक राज्य में, यह देखा गया है कि कम उम्र में विवाह के कारण प्रसव के दौरान महिला मृत्यु दर में वृद्धि हो रही है।

कार्यवाही के तरीके :

- I. डॉक्टरों या दाइयों को कम उम्र की महिलाओं का प्रसव कराने से बचना चाहिए।
 - II. सरकार को कम उम्र की गर्भवती माताओं को आर्थिक मदद देनी चाहिए।
- (A) केवल II अनुसरण करता है।
 - (B) न तो I और न ही II अनुसरण करता है।
 - (C) I और II दोनों अनुसरण करते हैं।
 - (D) केवल I अनुसरण करता है।
 - (E) अनुत्तरित प्रश्न

84. जिला आपदा प्रबंधन प्राधिकरण (डी डी एम ए) का नेतृत्व कौन करता है ?

- (A) खंड विकास अधिकारी
- (B) राज्य के मुख्य सचिव
- (C) एम एल ए
- (D) जिला अधिकारी
- (E) अनुत्तरित प्रश्न

85. नीचे दिए गए प्रश्न में एक कथन के बाद दो धारणाएँ I और II दी गई हैं। कथन को सत्य मानते हुए, तय करें कि कौन सी धारणा/धारणाएँ निहित है/हैं ?

कथन :

देश X में कपड़ा कारखानों की संख्या में वृद्धि के बावजूद, यह कपड़े का आयात करना जारी रखता है।

धारणाएँ :

- I. X में प्रति व्यक्ति कपड़े की माँग बहुत बढ़ रही है।
 - II. X की कपड़ा फैक्ट्रियाँ अकुशल हैं।
- (A) केवल धारणा II निहित है।
 - (B) या तो I या II निहित है।
 - (C) I और II दोनों निहित हैं।
 - (D) केवल धारणा I निहित है।
 - (E) अनुत्तरित प्रश्न

83. In the question below, there is a statement followed by two courses of action (I and II). Consider the statement to be a fact, decide which of the suggested courses of action logically follow it ?

STATEMENT :

In a state, it has been observed that there is an increasing rate of female mortality during child birth because of early marriages.

COURSES OF ACTION :

- I. Doctors or midwives should refrain from conducting child deliveries of the underage females.
 - II. The government should provide monetary help to the underage expecting mothers.
- (A) Only II follows.
 - (B) Neither I nor II follows.
 - (C) Both I and II follow.
 - (D) Only I follows.
 - (E) Question not attempted

84. The District Disaster Management Authority (DDMA) is headed by :

- (A) Block Development Officer
- (B) Chief Secretary of State
- (C) MLA
- (D) District Magistrate
- (E) Question not attempted

85. The question given below consists of a statement followed by two assumptions I and II. Considering the statement as true, decide which of the assumption(s) is/are implicit ?

STATEMENT :

In spite of an increase in the number of textile factories in a country X, it continues to import fabric.

ASSUMPTIONS :

- I. The demand of fabric per capita in X is over increasing.
 - II. The textile factories of X are inefficient.
- (A) Only assumption II is implicit.
 - (B) Either I or II is implicit.
 - (C) Both I and II are implicit.
 - (D) Only assumption I is implicit.
 - (E) Question not attempted

86. नीचे दिए गए प्रश्न में, एक कथन के बाद दो तर्क I और II दिए गए हैं। तय करें कि कौन सा/से तर्क मजबूत है/हैं ?

कथन :

क्या माता-पिता को अपनी बेटियों की शिक्षा की तुलना में अपने बेटों की शिक्षा पर अधिक पैसा खर्च करना चाहिए ?

तर्क :

I. हाँ। आंकड़े दर्शाते हैं कि लड़के लड़कियों की तुलना में अधिक सफल होते हैं।

II. हाँ। माता-पिता को अपनी बेटी की शिक्षा की तुलना में उसकी शादी पर अधिक पैसा खर्च करना चाहिए।

(A) केवल तर्क II मजबूत है।

(B) या तो I या II मजबूत है।

(C) न तो I और न ही II मजबूत है।

(D) केवल तर्क I मजबूत है।

(E) अनुत्तरित प्रश्न

87. वर्ष 2023-24 में राजस्थान में तिलहन और गन्ने के उत्पादन के बारे में निम्नलिखित में से कौन सा कथन 2022-23 में उत्पादन की तुलना में सत्य है ? नीचे दिए गए विकल्पों में से सबसे उपयुक्त उत्तर चुनें।

(A) 2023-24 में कुल तिलहन और गन्ने का उत्पादन बढ़ा।

(B) 2023-24 में कुल तिलहन और गन्ने का उत्पादन घटा।

(C) 2023-24 में कुल तिलहन उत्पादन में वृद्धि हुई जबकि गन्ने का उत्पादन घटा।

(D) 2023-24 में कुल तिलहन उत्पादन में कमी आई जबकि गन्ने का उत्पादन बढ़ा।

(E) अनुत्तरित प्रश्न

88. संशोधित बजट 2024-25 के अनुसार, 25 लाख ग्रामीण परिवारों के लिए जल जीवन मिशन पेयजल पर अनुमानित व्यय क्या है ?

(A) 15 हजार करोड़ (B) 20 हजार करोड़

(C) 25 हजार करोड़ (D) 10 हजार करोड़

(E) अनुत्तरित प्रश्न

86. The question given below consists of a statement followed by two arguments I and II. Decide which of the argument(s) is/are strong ?

STATEMENT :

Should parents spend more money on the education of their sons than on the education of their daughters ?

ARGUMENTS :

I. Yes. The data shows that boys succeed more than girls.

II. Yes. Parents should spend more money on their daughter's marriage than on her education.

(A) Only argument II is strong.

(B) Either I or II is strong.

(C) Neither I nor II is strong.

(D) Only argument I is strong.

(E) Question not attempted

87. Which of the following statements is true about the production of oilseeds and sugarcane in Rajasthan for the year 2023-24, as compared to the production of 2022-23 ?

Choose the most appropriate answer from the options given below.

(A) Total oilseeds and sugarcane production increased in 2023-24.

(B) Total oilseeds and sugarcane production decreased in 2023-24.

(C) Total oilseeds production increased, while sugarcane production decreased in 2023-24.

(D) Total oilseeds production decreased while sugarcane production increased in 2023-24.

(E) Question not attempted

88. According to modified budget 2024-25, what is the estimated expenditure on Jal Jeevan Mission drinking water for 25 lacs rural households ?

(A) 15 thousand crores (B) 20 thousand crores

(C) 25 thousand crores (D) 10 thousand crores

(E) Question not attempted

89. निम्नलिखित श्रृंखला में प्रश्न चिह्न (?) के स्थान पर आने वाली संख्या का चयन करें :

2, 5, 10, 17, 26, ?, 50

3, 5, 7, 9, 11

- (A) 38 (B) 39
(C) 40 (D) 37
(E) अनुत्तरित प्रश्न

90. एक आदमी की ओर इशारा करते हुए सूरज ने कहा, “वह मेरी दादी की बेटी का इकलौता भाई है।” सूरज उस आदमी से किस तरह संबंधित है ?

- (A) बेटा (B) पिता
(C) भाई (D) चचेरा भाई
(E) अनुत्तरित प्रश्न

91. नीचे दिए गए प्रश्न में, एक कथन के बाद दो धारणाएँ I और II दी गई हैं। कथन को सत्य मानते हुए, तय करें कि कौन सी धारणा/धारणाएँ निहित है/हैं ?

कथन :

पुलिस प्रशासन ने रैली ग्राउंड के चारों ओर वेंट्रिकुलर मूवमेंट को रोक दिया, जहाँ समर्थकों की बड़ी आमद के कारण एक नेता द्वारा सार्वजनिक बैठक आयोजित की जानी थी।

धारणाएँ :

- I. नेता जनता के बीच बहुत लोकप्रिय है।
II. नेता आगामी चुनाव जीतेगा।

- (A) केवल धारणा II निहित है।
(B) न तो I और न ही II निहित है।
(C) I और II दोनों निहित हैं।
(D) केवल धारणा I निहित है।
(E) अनुत्तरित प्रश्न

92. नीचे दी गई अक्षर श्रृंखला में आगे क्या आना चाहिए ?
ZP, YO, XN, WM, _____

- (A) VP (B) ZP
(C) VL (D) ZL
(E) अनुत्तरित प्रश्न

89. Select the number that can replace the question mark (?) in the following series :

2, 5, 10, 17, 26, ?, 50

- (A) 38 (B) 39
(C) 40 (D) 37
(E) Question not attempted

90. Pointing to a man, Sooraj said, “He is the only brother of the daughter of my grandmother.” How is Sooraj related to the man ?

- (A) Son (B) Father
(C) Brother (D) Cousin
(E) Question not attempted

91. In the question given below, a statement is followed by two assumptions I and II. Considering the statement as true, decide which of the assumption(s) is/are implicit ?

STATEMENT :

The police administration blocked ventricular movements around the rally ground where a public meeting is to be held by a leader due to the large inflow of supporters.

ASSUMPTIONS :

- I. The leader is very popular among the public.
II. The leader will win the upcoming election.

- (A) Only assumption II is implicit.
(B) Neither I nor II is implicit.
(C) Both I and II are implicit.
(D) Only assumption I is implicit.
(E) Question not attempted

92. What should come next in the letter series given below ?

ZP, YO, XN, WM, _____

- (A) VP (B) ZP
(C) VL (D) ZL
(E) Question not attempted

93. भरतपुर की जाट रियासत की स्थापना किसने की ?
 (A) सूरजमल (B) चूड़ामन
 (C) राजाराम (D) बदन सिंह
 (E) अनुत्तरित प्रश्न
94. 22 फरवरी 2025 तक राजस्थान के महाधिवक्ता कौन हैं ?
 (A) श्री एम.एस. सिंघवी
 (B) श्री एन.एम. लोढ़ा
 (C) श्री बी.पी. अग्रवाल
 (D) श्री राजेंद्र प्रसाद
 (E) अनुत्तरित प्रश्न
95. संविधान के उल्लंघन के लिए राष्ट्रपति को पद से कैसे हटाया जा सकता है ?
 नीचे दिए गए विकल्पों में से सबसे उपयुक्त उत्तर चुनें।
 (A) प्रधानमंत्री द्वारा
 (B) संसद और राज्य विधानमंडल के सदस्यों से मिलकर बने निर्वाचन मंडल द्वारा
 (C) महाभियोग द्वारा
 (D) अविश्वास प्रस्ताव द्वारा
 (E) अनुत्तरित प्रश्न
96. निम्नलिखित शब्द युग्म एक विशेष रूप से संबंधित है। कौन सा युग्म इस पैटर्न का अनुसरण नहीं करता ?
 (A) कुत्ता : पिल्ला (पप्पी)
 (B) गाय : बैल
 (C) बिल्ली : बिल्ली का बच्चा
 (D) शेर : शावक
 (E) अनुत्तरित प्रश्न
97. राजस्थान पुलिस में आरएसी (RAC) क्या है ?
 (A) रामगढ़ सशस्त्र कांस्टेबुलरी
 (B) राजगढ़ सशस्त्र कांस्टेबुलरी
 (C) आरक्षित सशस्त्र कांस्टेबुलरी
 (D) राजस्थान सशस्त्र कांस्टेबुलरी
 (E) अनुत्तरित प्रश्न
93. Who founded the Jat principality of Bharatpur ?
 (A) Surajmal (B) Churaman
 (C) Rajaram (D) Badan Singh
 (E) Question not attempted
94. Who is the Advocate General of Rajasthan as on 22 Feb. 2025 ?
 (A) Sh. M.S. Singhvi
 (B) Sh. N.M. Lodha
 (C) Sh. B.P. Agarwal
 (D) Sh. Rajendra Prasad
 (E) Question not attempted
95. For violation of the Constitution, the President may be removed from the office by :
 Choose the **most appropriate** answer from the options given below.
 (A) The Prime Minister
 (B) The Electoral College consisting of members of Parliament and the State Legislature
 (C) Impeachment
 (D) A no-confidence vote
 (E) Question not attempted
96. The following pairs of words are related in a particular manner. Which pair does **not** follow that pattern ?
 (A) Dog : Puppy
 (B) Cow : Bull
 (C) Cat : Kitten
 (D) Lion : Cub
 (E) Question not attempted
97. What is RAC in Rajasthan Police ?
 (A) Ramgarh Armed Constabulary
 (B) Rajgarh Armed Constabulary
 (C) Reserved Armed Constabulary
 (D) Rajasthan Armed Constabulary
 (E) Question not attempted

98. अल्फा-न्यूमेरिक श्रृंखला में लुप्त पद ज्ञात करें :
E11X, H7V, ?, N3R, Q2P

- (A) K9S (B) I5T
(C) I9U (D) K5T
(E) अनुत्तरित प्रश्न

99. नीचे दिए गए प्रश्न में एक कथन के बाद दो निष्कर्ष (I और II) दिए गए हैं। कथन को सत्य मानते हुए, तय करें कि उनमें से कौन सा निष्कर्ष कथन में दी गई जानकारी से उचित संदेह से परे तार्किक रूप से अनुसरण करता है ?

कथन :

कोविड महामारी ने तबाही मचाई और दुनिया भर में मौजूदा चिकित्सा बुनियादी ढांचे की दुखद वास्तविकता को उजागर किया।

निष्कर्ष :

- I. दुनिया भर में महामारी के बाद चिकित्सा बुनियादी ढांचे में सुधार हुआ।
II. महामारी से निपटने के लिए परिष्कृत और मजबूत चिकित्सा सुविधाओं की आवश्यकता थी।

- (A) केवल II अनुसरण करता है।
(B) न तो I और न ही II अनुसरण करता है।
(C) I और II दोनों अनुसरण करते हैं।
(D) केवल I अनुसरण करता है।
(E) अनुत्तरित प्रश्न

100. निम्नलिखित में से कौन सा कोयला जलने की प्रक्रिया के उप-उत्पाद के रूप में थर्मल पावर प्लांट द्वारा उत्सर्जित होता है, जिसके परिणामस्वरूप वायु प्रदूषण होता है ?
नीचे दिए गए विकल्पों में से सबसे उपयुक्त उत्तर चुनें।

- (A) टेट्राएथिल लेड (B) धूल
(C) फ्लाई ऐश (D) लोहे के ऑक्साइड
(E) अनुत्तरित प्रश्न

98. Find the missing term in the alpha-numeric series :

E11X, H7V, ?, N3R, Q2P

- (A) K9S (B) I5T
(C) I9U (D) K5T
(E) Question not attempted

99. In the question, given below is a statement followed by two conclusions (I and II). Assume the statement to be true, decide which of them logically follows beyond a reasonable doubt from the information given in the statement ?

STATEMENT :

The covid pandemic created mayhem and exposed the sad reality of existing medical infrastructure worldwide.

CONCLUSIONS :

- I. Medical infrastructure was improved after the pandemic worldwide.
II. Dealing with the pandemic required sophisticated as well as sturdy medical facilities.

- (A) Only II follows.
(B) Neither I nor II follows.
(C) Both I and II follow.
(D) Only I follows.
(E) Question not attempted

100. Which of the following is ejected mostly by thermal power plants as by-product of coal burning processes which results in air pollution ?
Choose the most appropriate answer from the options given below.

- (A) Tetraethyl Lead (B) Dust
(C) Fly Ash (D) Oxides of iron
(E) Question not attempted

- o o o -