

1. कृताकृत में समास है :

(A) द्विगु (B) तत्पुरुष

(C) अव्ययीभाव- (D) कर्मधारय

2. निम्नलिखित में से किस वाक्य में कर्तृवाच्य का प्रयोग हुआ है ?

(A) मोहन पुस्तक पढ़ रहा है।

(C) मजदूर से दर्द के कारण उठा नहीं गया।

(B) छात्रों द्वारा सत्रावट की गई।

(D) आज नागरिकों द्वारा सफाई अभियान चलाया गया।

3. निम्नलिखित में से कौन-सा अर्द्ध-विराम चिह्न है ?

(A) (1) (B) (.)

(C) (;) (D) (,)

4. दिए गए विकल्पों में से 'विधुर' का स्त्रीलिंग कौन-सा है ?

(A) विधुराइन (B) विधुरनी

(C) विधवा (D) विधुरी

5. वर्णमाला किसे कहते हैं ?

(A) वर्णों के उच्चारण स्थान को

(C) व्यंजनों के समूह को

(B) स्वरों को

(D) वर्णों के व्यवस्थित समूह को

6. "अंगारे बरसना" मुहावरे का सही अर्थ क्या है ?

(A) कठिन परिश्रम करना (B) कड़ी धूप होना

(C) असहनीय पीड़ा होना (D) अंगारों की वर्षा होना

7. "घर का रहस्य जानने वाला बड़ा घातक होता है" अर्थ की बोधक लोकोक्ति है :

(A) घर की मुर्गी दाल बराबर

(C) घर का भेदी लंका ढाए

(B) घर खीर तो बाहर खीर

(D) घर आये कुत्ते को भी नहीं निकालते

8. 'इति - ईति' शब्द-युग्म का सही विकल्प चुनिए :

(A) भोगना - जल

(B) समाप्ति - बाधा

(C) तैयार - दानशील (D) ऋण - ठीक

प्र. सं. 9 से 13 गद्यांश प्रश्न

झाँसी की रानी (कविता) सुभद्रा कुमारी चौहान की प्रसिद्ध कविता है। दिए गए कविता के आधार पर निम्नलिखित प्रश्नों के उत्तर दीजिए।

लक्ष्मी थी या दुर्गा थी वह स्वयं वीरता की अवतार

देख मराठे पुलकित होते उसके तलवारों के वार

नकली युद्ध, ब्यूह की रचना और खेलना खूब शिकार

सैन्य घेरना, दुर्ग तोड़ना, ये थे उसके प्रिय खेलवार

महाराष्ट्र कुल देवी उसकी भी आराध्य भवानी थी

बुन्देले हरबोलों के मुँह हमने सुनी कहानी थी

खूब लड़ी मरदानी वह तो झाँसी वाली रानी थी।

9. उक्त पद्यांश का सही शीर्षक हो सकता है :

(A) महाराष्ट्र कुल देवी

(C) 1857 का गदर

(B) झाँसी की रानी

(D) अंग्रेजों का आक्रमण

10. इस कविता की कवयित्री का नाम है :

(A) मीराबाई

(B) महादेवी वर्मा

(C) सुभद्रा कुमारी चौहान

(D) तारा शारदेय

11. इस कविता में प्रयोग किया गया रस है :

(A) वीर

(B) भक्ति

(C) करुण

(D) शृंगार

12. कवयित्री की अधिकांश रचनाएँ हैं :

(A) धार्मिक

(B) सामाजिक

(C) वास्तव्यपूर्ण

(D) देशभक्तिपूर्ण

DZ.U-24

Page 2 of 24

13. 'खूब लड़ी मरदानी वह तो झाँसी वाली रानी थी' में मरदानी शब्द का अर्थ है :  
 (A) लड़ाकू (B) वीरगंगा (C) पुरुषों जैसी (D) पुरुषत्ववान
14. 'देवाई' शब्द का सही बहुवचन रूप वाला विकल्प पहचानिए :  
 (A) दवाईयाँ (B) देवाईयाँ (C) देवाइयाँ (D) देवाईं
15. बिनु पग चले सुनै बिनु काना, कर बिनु कर्म करै विधि नाना। इन प्रक्तियों में प्रयुक्त अलंकार है :  
 (A) विभावना अलंकार (B) असंगति अलंकार (C) विशेषोक्ति अलंकार (D) दृष्टान्त अलंकार
16. निम्नलिखित में से किस क्षेत्र में विशेष योगदान के लिए जानपीठ पुरस्कार प्रदान किया जाता है ?  
 (A) साहित्य (B) सिनेमा (C) विज्ञान (D) समाज सेवा
17. 'अंधेर नगरी' का अर्थ है :  
 (A) सुनसान जगह (B) राज्यविहीन स्थान (C) अन्याय की जगह (D) जहाँ अंधेरा हो
18. 'अभिज्ञ' शब्द का समभिनार्थक क्या है ?  
 (A) विशेषज्ञ (B) मूर्ख (C) जानकार (D) स्पर्श
19. 'चीफ़ की दावत' (कहानी) के रचनकार हैं :  
 (A) दुष्यंत कुमार (B) डॉ. देवराज निम्नलिखित में से पुल्लिंग शब्द छँटिए :  
 (A) आहार (B) चाहत (C) राजेंद्र यादव (D) भीष्म साहनी
20. निम्नलिखित में से कौन-सा शब्द विशेषण है ?  
 (A) चुपचाप (B) मात्र (C) रंगत (D) मेहनत
21. अव्यय के कितने भेद हैं ?  
 (A) 6 (B) 3 (C) खर्च (D) निपट
22. 'ऋ' वर्ण का उच्चारण स्थान है :  
 (A) मूर्धा (B) दन्त (C) कण्ठ (D) ओष्ठ
23. निर्वसित में कौन-सा प्रत्यय है ?  
 (A) उत (B) इत (C) इक (D) आस
24. 'काव्य की शोभा बढ़ाने वाले धर्मों को अलंकार कहते हैं।' इस उक्ति में प्रयुक्त 'धर्म' शब्द का क्या अर्थ है ?  
 (A) कर्तव्य (B) मज़हब (C) गुण (D) सत्कर्म
25. 'कानन' का पर्यायवाची शब्द है :  
 (A) अरण्य (B) वन (C) विहिप (D) पुष्प
26. 'कान्ति - क्लान्ति' शब्द-युग्म का सही अर्थ है :  
 (A) शकावट - चमक (B) चमक - क्लेश (C) चमक - थकावट (D) उलट-फेर - थकावट
27. 'आधि - व्याधि' शब्द-युग्म में 'आधि' का अर्थ निम्नलिखित में से क्या है ?  
 (A) अधकपारी जैसे रोग (B) मानसिक कष्ट (C) आधा (D) पागलपन
28. 'मुझे बारिश में भीगना पसंद नहीं है।' किस सर्वनाम का उदाहरण है ?  
 (A) अन्य पुरुष (B) उत्तम पुरुष (C) प्रथम पुरुष (D) उत्तम और प्रथम पुरुष दोनों

30. 'तुम कब आओगे' इस वाक्य में उचित विराम का प्रयोग कीजिए।  
 (A) कोष्ठक (B) पूर्ण विराम (C) प्रश्नवाचक चिह्न (D) उपविराम
31. 1987 में 'मगध (कविता)' के लिए साहित्य अकादमी पुरस्कार किसे दिया गया?  
 (A) शिव प्रसाद सिंह (B) निर्मल वर्मा (C) श्रीकांत वर्मा (D) त्रिलोचन
32. निम्नलिखित में से विशेषण शब्द है :  
 (A) कौन (B) जाना  (C) देवता  (D) सुन्दर
33. निम्नलिखित में से वाक्य के शुद्ध रूप का चयन कीजिए :  
 (A) मैं गाने का व्यायाम कर रहा हूँ।  (B) मैं गाने की कसरत करता हूँ।   
 (C) मैं गाने का अभ्यास करता हूँ।  (D) मैं गाने का शौक कर रहा हूँ।
34. 'अभय - उभय' शब्द-युग्म का सही अर्थ है :  
 (A) दोनों - निर्भय (B) निर्भय - दोनों  (C) हवा - अग्नि  (D) पढ़ना - पढ़ाना
35. 'त' वर्ग की ध्वनियों का उच्चारण स्थान है :  
 (A) तालव्य  (B) नासिक्य  (C) दंत्य  (D) मूर्धन्य
36. 'वह लाचार है, क्योंकि वह अंधा है।' इस वाक्य में कौन-सा अव्यय है ?  
 (A) कारणवाचक  (B) परिणामवाचक  (C) सम्बन्धवाचक  (D) संकेतवाचक
37. 'माध-फागुन में पड़ने वाली ऋतु' के लिए एक शब्द है :  
 (A) ग्रीष्म  (B) शिशिर  (C) शिरोधार्य  (D) सुग्रीव
38. एनपीए का पूर्ण रूप \_\_\_\_\_ है।  
 (A) गैर-निष्पादित कार्य (नॉन-परफॉर्मिंग एक्शन)  (B) गैर-निष्पादित परिसंपत्तियाँ (नॉन-परफॉर्मिंग एसिट्स)   
 (C) गैर-सार्वजनिक परिसंपत्तियाँ (नॉन-पब्लिक एसिट्स)  (D) गैर-पैकेज कार्रवाई (नॉन-पैकेज एक्शन)
- The full form of NPA is \_\_\_\_\_  
 (A) Non-Performing Actions  (B) Non-Performing Assets   
 (C) Non-Public Assets  (D) Non-Package Action
39. उत्तर प्रदेश के किस जिले में 'शेरा नृत्य' मनाया जाता है ?  
 (A) बिजनौर  (B) अमेठी  (C) अयोध्या  (D) ललितपुर
- In which district of Uttar Pradesh is the 'Shera Dance' celebrated?  
 (A) Bijnor  (B) Améthi  (C) Ayodhya  (D) Lalitpur
40. प्रस्तावना (उद्देशिका) में 'राष्ट्र की एकता और अखंडता' शब्दों का उद्देश्य किस मौलिक सिद्धांत को बढ़ावा देना है ?  
 (A) संप्रभुता  (B) समता  (C) न्याय  (D) बंधुता
- The words "Unity and Integrity of the Nation" in the Preamble aim to promote which fundamental principle?  
 (A) Sovereignty  (B) Equality  (C) Justice  (D) Fraternity
41. UDHR (मानव अधिकारों की सार्वभौम घोषणा) का कौन-सा अनुच्छेद उत्पीड़न से शरण लेने के अधिकार की गारंटी देता है ?  
 (A) अनुच्छेद 25  (B) अनुच्छेद 10  (C) अनुच्छेद 14  (D) अनुच्छेद 18
- Which article of the UDHR (Universal Declaration of Human Rights) guarantees the right to seek asylum from persecution?  
 (A) Article 25  (B) Article 10  (C) Article 14  (D) Article 18

42. भारतीय जीएसटी में निम्नलिखित में से किस प्रकार का कर प्रस्तुत किया जाता है ?  
 (A) संपत्ति कर (B) आय कर (C) सेवा कर (D) धन कर  
 Which of the following type of tax is submitted in Indian GST ?  
 (A) Property Tax (B) Income Tax (C) Service Tax (D) Wealth Tax
43. निम्नलिखित में से किसने पहली बार बुनियादी शिक्षा का विचार प्रतिपादित किया ?  
 (A) राजा राम मोहन राय (B) महात्मा गाँधी  
 (C) जवाहरलाल नेहरू (D) दयानंद सरस्वती  
 Who among the following first propounded the idea of Basic Education ?  
 (A) Raja Ram Mohan Roy (B) Mahatma Gandhi  
 (C) Jawaharlal Nehru (D) Dayanand Saraswati
44. भारत में, 2020 - 21 में कौन-सा राज्य मसालों का प्रमुख उत्पादक था ?  
 (A) कर्नाटक (B) मध्य प्रदेश (C) असम (D) तमिलनाडु  
 In India, which state was the leading producer of spices in 2020 - 21 ?  
 (A) Karnataka (B) Madhya Pradesh (C) Assam (D) Tamil Nadu
- निम्नलिखित में से कौन-सा त्योहार भारत में प्रकाश के त्योहार के रूप में जाना जाता है ?  
 (A) ईद (B) होली (C) दिवाली (D) क्रिसमस (बड़ा दिन)  
 Which of the following festival is known as the festival of lights in India ?  
 (A) Eid (B) Holi (C) Diwali (D) Christmas
- 2021 में, इंस्टाग्राम को इंटरनेट पर दुनिया भर में सबसे अधिक इस्तेमाल किए जाने वाले सोशल मीडिया प्लेटफॉर्म में स्थान दिया गया था।  
 (A) चौथा (B) दूसरा (C) पहला (D) पाँचवाँ  
 In 2021, Instagram was ranked globally at \_\_\_\_\_ position on the Internet in Most Used Social Media Platforms Worldwide.  
 (A) Fourth (B) Second (C) First (D) Fifth
47. चीन ने तिब्बत पर आक्रमण कब किया ?  
 (A) 1949 (B) 1952 (C) 1950 (D) 1953  
 When did China invade Tibet ?  
 (A) 1949 (B) 1952 (C) 1950 (D) 1953
48. निम्नलिखित में से किस जीव को जल प्रदूषण का जैव संकेतक माना जाता है ?  
 (A) शेर (B) केंचुआ (C) ज़ेबरा (D) मेंढक  
 Which of the following organisms is considered a bioindicator of water pollution ?  
 (A) Lion (B) Earthworm (C) Zebra (D) Frog
49. जनसंख्या (D) का घनत्व है :  
 (A)  $D = S(\text{आकार}) / S(\text{स्पेस})$   
 (B)  $D = S(\text{आकार}) / W(\text{वजन})$   
 (C)  $D = S(\text{स्पेस}) / N(\text{संख्या})$   
 (D)  $D = N(\text{संख्या}) / S(\text{स्पेस})$   
 Density of a population (D) is :  
 (A)  $D = S(\text{size}) / S(\text{space})$   
 (B)  $D = S(\text{size}) / W(\text{weight})$   
 (C)  $D = S(\text{space}) / N(\text{number})$   
 (D)  $D = N(\text{number}) / S(\text{space})$

50. बायोमीट्रिक प्रौद्योगिकी का एकीकरण भारत के आंतरिक सुरक्षा ढाँचे को कैसे बढ़ाता है ?

- (A) पहचान और सत्यापन प्रक्रियाओं में सुधार करके  
(B) समग्र निगरानी को बढ़ाते हुए वास्तविक समय स्थान ट्रैकिंग प्रदान करके  
(C) मानव सुरक्षा कर्मियों की आवश्यकता को पूरी तरह समाप्त करके  
(D) नागरिकों के लिए कागजी कार्रवाई को कम करके और प्रशासनिक प्रक्रियाओं को सुव्यवस्थित करके

How does the integration of biometric technology enhance India's internal security framework ?

- (A) By improving identification and verification processes  
(B) By providing real-time location tracking enhancing overall surveillance  
(C) By eliminating the need for human security personnel altogether  
(D) By reducing paperwork and streamlining administrative processes for citizens

51. 1928 में बारडोली सत्याग्रह का नेतृत्व किसने किया था ?

- (A) जवाहरलाल नेहरू  
(B) महात्मा गाँधी  
(C) सरदार वल्लभभाई पटेल  
(D) सुभाष चंद्र बोस

Who led the Bardoli Satyagraha in 1928 ?

- (A) Jawaharlal Nehru  
(B) Mahatma Gandhi  
(C) Sardar Vallabhbhai Patel  
(D) Subhash Chandra Bose

प्रथम 'लाइफटाइम डिस्टिन्ग्विश्ड पीस अवार्ड' (शांति भंग का आजीवन पुरस्कार) का प्राप्तकर्ता कौन है ?

- (A) रोरी स्टीवर्ट  
(B) सलमान रुश्दी  
(C) अरुंधति रॉय  
(D) जो बिडेन

Who is the recipient of the first-ever 'Lifetime Disturbing the Peace Award' ?

- (A) Rory Stewart  
(B) Salman Rushdie  
(C) Arundhati Roy  
(D) Joe Biden

53. सबसे कम लिंगानुपात वाला भारतीय राज्य है :

- (A) अरुणाचल प्रदेश  
(B) हरियाणा  
(C) पंजाब  
(D) उत्तर प्रदेश

The Indian state with the lowest sex ratio is :

- (A) Arunachal Pradesh  
(B) Haryana  
(C) Punjab  
(D) Uttar Pradesh

54. अंतर्राष्ट्रीय अक्षय ऊर्जा एजेंसी (IRENA) क्या करती है ?

- (A) दुनिया भर में जीवाश्मी ईंधन परियोजनाओं के लिए वित्तीय सहायता प्रदान करती है  
(B) अक्षय (नवीकरणीय) ऊर्जा के उपयोग को बढ़ावा देती है  
(C) विकासशील देशों के लिए परमाणु ऊर्जा कार्यक्रम विकसित करती है  
(D) IRENA परमाणु ऊर्जा को आगे बढ़ाने पर ध्यान केंद्रित करती है  
What does the International Renewable Energy Agency (IRENA) do ?  
(A) Provides financial aid for fossil fuel projects worldwide  
(B) Promotes the use of renewable energy  
(C) Develops nuclear energy programmes for developing countries  
(D) IRENA focuses on advancing nuclear power

55. 14 सितंबर को किस रूप में मनाया जाता है ?

- (A) इंजीनियर दिवस  
(B) राष्ट्रीय हिंदी दिवस  
(C) राष्ट्रीय मतदाता दिवस  
(D) विश्व कैन्सर दिवस

14 September is celebrated as :

- (A) Engineer's Day  
(B) National Hindi Diwas  
(C) National Voters Day  
(D) World Cancer Day

56. भारतमाला परियोजना किससे संबंधित है ?

- (A) चानिकी  
(B) सड़क मार्ग  
(C) जलमार्ग  
(D) हवाई अड्डों

The Bharatmala Pariyojana is related to :

- (A) Forestry  
(B) Roadways  
(C) Waterways  
(D) Airports

DZ.U-24

Page 6 of 24

57. वैश्विक आतंकवाद विरोधी प्रयासों के समन्वय के लिए किस संगठन को जिम्मेदार माना जाता है ?  
 (A) UNCT (B) इंटरपोल (C) नाटो (D) विश्व बैंक  
 Which organisation is held responsible for coordinating global counterterrorism efforts ?  
 (A) UNCT (B) INTERPOL (C) NATO (D) World Bank
58. दूध उत्पाद, ब्रेड, आदि आवश्यक वस्तुओं पर जीएसटी दर क्या है ?  
 What is the GST rate for necessary items like milk products, bread, etc ?  
 (A) 28% (B) 5% (C) 18% (D) 12%
59. चंद्रमा पर नासा के मानवयुक्त लैंडिंग मिशन को क्या नाम दिया गया है जो 2024-25 तक होने की संभावना है ?  
 (A) अर्टीमिस (B) लुनर गेटवे (C) ओरियन (D) अपोलो रीगेन्ड  
 What is the name given to NASA's manned landing mission to the Moon which is likely to happen by 2024-25 ?  
 (A) Artemis (B) Lunar Gateway (C) Orion (D) Apollo Regained
60. अंतर्राष्ट्रीय थर्मोन्यूक्लियर प्रायोगिक रिएक्टर (ITER) परियोजना का उद्देश्य निम्नलिखित की व्यवहार्यता प्रदर्शित करना है :  
 (A) अंतरिक्ष-आधारित बिजली उत्पादन  
 (B) ऊर्जा उत्पादन के लिए परमाणु विखंडन  
 (C) बड़े पैमाने पर और कार्बन-मुक्त स्रोत के रूप में संलयन ऊर्जा  
 (D) उन्नत सौर पैनल प्रौद्योगिकी  
 The International Thermonuclear Experimental Reactor (ITER) project aims to demonstrate the feasibility of:  
 (A) Space-based power generation  
 (B) Nuclear fission for energy production  
 (C) Fusion energy as a large-scale and carbon-free source  
 (D) Advanced solar panel technology
61. जून 2024 तक लोक सभा में विपक्ष के नेता कौन हैं ?  
 (A) सोनिया गाँधी (B) राहुल गाँधी  
 (C) मल्लिकार्जुन खड़गे (D) अरविन्द केजरीवाल  
 Who is the Leader of the Opposition in the Lok Sabha as of June 2024 ?  
 (A) Sonia Gandhi (B) Rahul Gandhi  
 (C) Mallikarjun Kharge (D) Arvind Kejriwal
62. "तुगलक नामा" पुस्तक के लेखक कौन हैं ?  
 (A) एलन जेन (B) अमीर खुसरो (C) जियाउद्दीन बरनी (D) इब्न बतूता  
 Who is the author of the book "Tughluq Nama" ?  
 (A) Allen Zen (B) Amir Khusräu (C) Ziauddin Barani (D) Ibn Battuta
63. व्यापक परमाणु परीक्षण प्रतिबंध संधि का मुख्य उद्देश्य क्या है ?  
 (A) नागरिक और सैन्य दोनों उद्देश्यों के लिए सभी परमाणु विस्फोटों पर प्रतिबंध  
 (B) परमाणु हथियारों के उत्पादन पर प्रतिबंध  
 (C) परमाणु ऊर्जा के शांतिपूर्ण उपयोग को बढ़ावा देना  
 (D) मौजूदा परमाणु शस्त्रागार को कम करना  
 What is the main purpose of the Comprehensive Test Ban Treaty ?  
 (A) Ban all nuclear explosions for both civilian and military purposes  
 (B) Ban nuclear weapons production  
 (C) Promote the peaceful use of nuclear energy  
 (D) Reduce existing nuclear arsenals

64. अर्जुन पुरस्कार किस क्षेत्र में उपलब्धियों के लिए प्रदान किया जाता है ?  
 (A) साहित्य (B) खेल (C) नृत्य (D) थियेटर (नाटक)  
 Arjuna Award is conferred for achievements in the field of:  
 (A) Literature (B) Sports (C) Dance (D) Theatre
65. किस संवैधानिक संशोधन अधिनियम ने लोकसभा और राज्य विधानसभाओं में अनुसूचित जातियों और अनुसूचित जनजातियों के लिए सीटों के आरक्षण को बढ़ाया ?  
 (A) 79वाँ संशोधन (B) 42वाँ संशोधन (C) 44वाँ संशोधन (D) 73वाँ संशोधन  
 Which Constitutional Amendment Act extended the reservation of seats for Scheduled Castes and Scheduled Tribes in the Lok Sabha and State Assemblies?  
 (A) 79<sup>th</sup> Amendment (B) 42<sup>nd</sup> Amendment (C) 44<sup>th</sup> Amendment (D) 73<sup>rd</sup> Amendment
66. 'लोकटक' झील भारत के किस राज्य में स्थित है ?  
 (A) त्रिपुरा (B) मेघालय (C) मणिपुर (D) मिजोरम  
 The "Loktak" lake is located in which state of India?  
 (A) Tripura (B) Meghalaya (C) Manipur (D) Mizoram
67. 'इंडिया विन्स फ्रीडम' किसकी आत्मकथा है ?  
 (A) अबुल कलाम आजाद (B) राजेंद्र प्रसाद (C) ए.के. आडवाणी (D) ए.पी.जे. अब्दुल कलाम  
 'India Wins Freedom' is the autobiography of whom?  
 (A) Abul Kalam Azad (B) Rajendra Prasad (C) A.K. Advani (D) A.P.J. Abdul Kalam
68. 2016 के विमुद्रीकरण के बाद RBI को कितने प्रतिशत 500 और 1000 रुपये के नोट प्राप्त हुए ?  
 What percentage of 500 and 1000 rupees notes was received by RBI after the 2016 demonetization?  
 (A) 97.45% (B) 98.96% (C) 95.65% (D) 93.27%
69. 1993 में मानव अधिकारों पर विश्व सम्मेलन ने \_\_\_\_\_ को अपनाया गया।  
 (A) हेल्सिंकी और एम्स्टर्डम घोषणा (B) एम्स्टर्डम घोषणा (C) हेल्सिंकी घोषणा (D) विपना घोषणा  
 The World Conference on Human Rights in 1993 adopted the \_\_\_\_\_.  
 (A) Helsinki and Amsterdam Declaration (B) Amsterdam Declaration (C) Helsinki Declaration (D) Vienna Declaration
70. दर्शकों के साथ संवाद करने के लिए सोशल मीडिया प्लेटफॉर्म के रणनीतिक उपयोग के लिए क्या शब्द है ?  
 (A) आभासी बातचीत (अंतःक्रिया) (B) सामाजिक माध्यम विपणन (बाजारीकरण) (C) सामाजिक नेटवर्किंग (D) ऑनलाइन बातचीत  
 What is the term for the strategic use of social media platforms to communicate with an audience?  
 (A) Virtual interaction (B) Social media marketing (C) Social networking (D) Online chatting
71. भूटान की राजधानी क्या है ?  
 (A) साराजेवो (B) ब्रासीलिया (C) पोर्टो-नोवो (D) थिम्फू  
 What is the capital of Bhutan?  
 (A) Sarajevo (B) Brasilia (C) Porto-Novo (D) Thimphu

72. भारत में सबसे लंबा नदी पुल कौन-सा है ?

- (A) भूपेन हजारीका सेतु  
(B) रवीन्द्र सेतु  
(C) महात्मा गाँधी सेतु  
(D) अनाई इंदिरा गाँधी ब्रिज

Which is the longest River bridge in India ?

- (A) Bhupen Hazarika Setu  
(B) Rabindra Setu  
(C) Mahatma Gandhi Setu  
(D) Annai Indira Gandhi Bridge

73. सरकार ने किसान क्रेडिट कार्ड योजना कब पेश की ?

- (A) नवंबर 1995  
(B) अप्रैल 1853  
(C) अगस्त 1998  
(D) जुलाई 1991

When did the Government present the Kisan Credit Card Scheme ?

- (A) November 1995  
(B) April 1853  
(C) August 1998  
(D) July 1991

74. भारत और वियतनाम के बीच साझेदारी से उनके क्षेत्रीय सुरक्षा परिदृश्य में किस प्रकार परिवर्तन आया ?

- (A) संयुक्त परमाणु कार्यक्रमों के माध्यम से  
(B) सांस्कृतिक एकीकरण के माध्यम से  
(C) आर्थिक प्रतिबंध लगाकर  
(D) रक्षा सहयोग और समुद्री सुरक्षा बढ़ाकर
- How does the partnership between India and Vietnam change their regional security dynamics ?
- (A) Through joint nuclear programmes  
(B) Through cultural integration  
(C) By imposing economic sanctions  
(D) By increasing defence cooperation and maritime security

एक सॉफ्टवेयर प्रोग्राम है जो इंटरनेट के माध्यम से आने वाले सभी डेटा को फ़िल्टर करता है।

- (A) फ़ायरवॉल  
(B) एंटीवायरस  
(C) कुकीज़  
(D) मालवेयर

\_\_\_\_\_ is a software program that filters all the data coming through the Internet.

- (A) Firewall  
(B) Antivirus  
(C) Cookies  
(D) Malware

76. एक राशि का भुगतान ₹ 1,764 की दो वार्षिक किस्तों में किया जाता है, जिससे वार्षिक संयोजित 5% चक्रवृद्धि ब्याज मिलता है। तो उधार ली गई राशि कितनी थी ?

- A sum of money is paid back in two annual instalments of ₹ 1,764 each, allowing 5% compound interest compounded annually. The sum borrowed was :  
(A) ₹ 3,240  
(B) ₹ 3,280  
(C) ₹ 3,220  
(D) ₹ 3,200

77. C और B एक कार्य को क्रमशः 18 दिनों और 24 दिनों में कर सकते हैं। उन्होंने 8 दिनों तक एक साथ काम किया और फिर C चला गया। B ने शेष कार्य को कितने दिनों में पूरा किया ?

- (A) 10 दिन  
(B) 5 दिन  
(C)  $5\frac{1}{3}$  दिन  
(D)  $8\frac{1}{3}$  दिन
- C and B can do a work in 18 days and 24 days respectively. They worked together for 8 days and then C left. In how many days did B finish the remaining work ?  
(A) 10 days  
(B) 5 days  
(C)  $5\frac{1}{3}$  days  
(D)  $8\frac{1}{3}$  days

78. A और B प्रत्येक एक कार्य को 75 दिनों में कर सकते हैं। उन्होंने एक साथ कार्य शुरू किया लेकिन A ने कुछ समय बाद छोड़ दिया और B ने शेष कार्य को 23 दिनों में पूरा किया। A ने कार्य शुरू होने के कितने दिनों के बाद छोड़ दिया ?

- (A) 25 दिन  
(B) 26 दिन  
(C) 19 दिन  
(D) 18 दिन
- A and B each can do a work in 75 days. They began the work together but A left after some time and B completed the remaining work in 23 days. After how many days of the start of the work did A leave ?  
(A) 25 days  
(B) 26 days  
(C) 19 days  
(D) 18 days



79. एक वस्तु की कीमत में 25% वृद्धि की गई। तत्पश्चात् कीमत को 20% घटा दिया गया और फिर 10% बढ़ा दिया गया। तो कीमत में परिणामी वृद्धि क्या है?  
The increase in the price of a certain item was 25%. Then the price was decreased by 20% and then again increased by 10%. What is the resultant increase in the price?  
(A) 15% (B) 5% (C) 10% (D) 12.5%
80. क्रमशः ₹ 180 प्रति किलोग्राम और ₹ 280 प्रति किलोग्राम दर वाली दो प्रकार की चाय को किस अनुपात में मिलाया जाए कि प्रास मिश्रण को ₹ 320 प्रति किलोग्राम पर बेचे जाने पर 20% का लाभ हो?  
In what ratio must the two types of tea at ₹ 180/kg and ₹ 280/kg respectively be mixed so that the obtained mixture sold at ₹ 320/kg earns a profit of 20%?  
(A) 2 : 13 (B) 3 : 13 (C) 4 : 13 (D) 1 : 14
81. A और B की गति की दूँ के बीच का अनुपात 2 : 3 है और इसलिए A को गंतव्य तक पहुँचने में B द्वारा लिए गए समय से 15 मिनट अधिक समय लगता है। यदि A दुगुनी गति से चला जाता, तो उसे दूरी तय करने में कितना समय लगता है?  
(A) 45 मिनट (B) 22.5 मिनट (C) 35 मिनट (D) 21.5 मिनट
82. The ratio between the speed of travelling of A and B is 2 : 3 and therefore A takes 15 minutes more than the time taken by B to reach a destination. If A had walked at double the speed, how long would he have taken to cover the distance?  
(A) 45 minutes (B) 22.5 minutes (C) 35 minutes (D) 21.5 minutes
83. एक धनराशि साधारण ब्याज पर 5% वार्षिक दर से 3 गुना हो जाती है। उसी समय में यह धनराशि किस दर % पर 6 गुना हो जाएगी? A sum of money becomes three times at 5% per annum simple interest. At what rate % will it become six times in the same time?  
(A) 12.5% (B) 10.5% (C) 14% (D) 11%
84. सेवा से सेवानिवृत्ति पर एक व्यक्ति की पेंशन उसकी सेवा के पिछले 3 वर्षों के दौरान औसत वेतन के आधे के बराबर है। उसका वेतन 1-1-1983 को ₹ 380 प्रति माह है और 1-10-83, 1-1-84 और 1-10-85 पर ₹ 40 देय राशि की वृद्धि के साथ यदि वह 1-1-86 को सेवानिवृत्त होता है, तो वह प्रति माह कितनी पेंशन प्राप्त करता है? A man's pension on retirement from service is equal to half the average salary during the last 3 years of his service. His salary from 1-1-1983 is ₹ 380 per month, with increment of ₹ 40 due on 1-10-83, 1-10-84 and 1-10-85. If he retires on 1-1-86, what pension does he draw per month?  
(A) ₹ 230 (B) ₹ 205 (C) ₹ 215 (D) ₹ 225
85. यदि किसी संख्या का 70%, 0.35 है, तो उस संख्या का 120% ज्ञात कीजिए। If 70% of a number is 0.35, then find 120% of that number.  
(A) 0.6 (B) 6.4 (C) 7.2 (D) 6.0
86. एक व्यापारी ने 25% का लाभ शामिल करने के लिए एक वस्तु की कीमत अंकित की लेकिन अंकित मूल्य पर 16% की छूट भी दी। उसका वास्तविक लाभ कितना होगा? A trader marked the price of a commodity to include a profit of 25% but allowed a discount of 16% on the marked price. What will be his actual profit?  
(A) 9% (B) 16% (C) 25% (D) 5%
87. एक क्रिकेट खिलाड़ी की 30 पारियों के लिए बल्लेबाजी औसत 40 रन है। उसका सर्वोच्च स्कोर उसके न्यूनतम स्कोर से 100 रन से अधिक है। यदि इन दोनों पारियों को शामिल नहीं किया जाए तो बाकी 28 पारियों का औसत 38 रन है। तो खिलाड़ी का न्यूनतम स्कोर क्या है? The batting average for 30 innings of a cricket player is 40 runs. His highest score exceeds his lowest score by 100 runs. If these two innings are not included, the average of the remaining 28 innings is 38 runs. Then the lowest score of the player is:  
(A) 17 (B) 19 (C) 18 (D) 20

$$\begin{array}{r} 380 \\ 420 \\ 460 \\ \hline 1360 \end{array} \div 3 = 453.33$$

$$\begin{array}{r} 420 \\ 460 \\ \hline 880 \end{array} \div 3 = 293.33$$

87. एक पुराना टून्हीलर-डीलर एक स्कूटर को ₹ 460 में बेचता है और उसे कुछ नुकसान होता है। यदि वह इसे ₹ 580 में बेचता है, तो उसका लाभ उसकी हानि का दुगुना होता है। स्कूटर का क्रय मूल्य क्या था ?

A used two-wheeler-dealer sells a scooter for ₹ 460 and makes some loss. If he had sold it for ₹ 580, his profit would have been double of his loss. What was the cost price of the scooter ?

- (A) ₹ 500 (B) ₹ 520 (C) ₹ 540 (D) ₹ 480

88. 285, 510, 1440 का महत्तम समापवर्तक (HCF) ज्ञात कीजिए।

Find the HCF of 285, 510, 1440.

- (A) 17 (B) 14 (C) 15 (D) 16

89.  $\frac{1}{2}, \frac{2}{3}, \frac{3}{4}, \frac{4}{5}$  का महत्तम समापवर्तक (HCF) ज्ञात कीजिए।

Find the HCF of  $\frac{1}{2}, \frac{2}{3}, \frac{3}{4}, \frac{4}{5}$ .

- (A)  $\frac{1}{50}$  (B)  $\frac{1}{45}$  (C)  $\frac{1}{40}$  (D)  $\frac{1}{60}$

एक कार्यालय में वरिष्ठ अधिकारी और सचिव हैं। यदि 15 सचिव छुट्टी पर चले जाएं, तो प्रत्येक सचिव के ऊपर दो वरिष्ठ अधिकारी होते हैं। उसके बाद 45 वरिष्ठ अधिकारियों के छुट्टी पर जाने के पश्चात् अब प्रत्येक वरिष्ठ अधिकारी के पास 5 सचिव रहते हैं। तो फिर ज्ञात कीजिए कि शुरू में कितने सचिव थे।

There are Senior officers and Secretaries in an office. If 15 Secretaries went on leave, then every Secretary has two Senior officers. After that 45 Senior officers went on leave and now every Senior officer has 5 Secretaries. Then find out how many Secretaries were there initially.

- (A) 35 (B) 30 (C) 40 (D) 25

91. एक नाव धारा के विपरीत 80 किमी 16 घंटे में तथा धारा के साथ 72 किमी 12 घंटे में चलती है। स्थिर जल में नाव की गति है :

(A) 7.5 किमी/घंटा (B) 6.5 किमी/घंटा (C) 5.5 किमी/घंटा (D) 6.6 किमी/घंटा

A boat goes 80 km upstream in 16 hours and 72 km downstream in 12 hours. The speed of the boat in still water is :

- (A) 7.5 km/hour (B) 6.5 km/hour (C) 5.5 km/hour (D) 6.6 km/hour

92. एक व्यक्ति शांत जल में  $22\frac{1}{2}$  किमी एक घंटे में तय करता है और यह पाता है कि उसका धारा के विपरीत लिया गया समय, धारा के साथ के समय का दुगुना है। धारा की गति क्या है ?

- (A)  $13\frac{1}{2}$  किमी/घंटा (B) 12 किमी/घंटा (C) 3 किमी/घंटा (D)  $7\frac{1}{2}$  किमी/घंटा

A person can row  $22\frac{1}{2}$  km an hour in still water and he finds that it takes him twice as long to row up as to row down the stream. The speed of the stream is :

- (A)  $13\frac{1}{2}$  km/hr (B) 12 km/hr (C) 3 km/hr (D)  $7\frac{1}{2}$  km/hr

93. एक निर्माता एक विशेष घटक के 2000 टुकड़ों को ₹ 50 प्रतिपीस की दर से आपूर्ति करने का वचन देता है। उसके अनुमान के अनुसार, यदि 5% घटक गुणवत्ता परीक्षा पास करने में असफल हो जाते हैं, तब भी वह 25% का लाभ कमाएगा। हालांकि 50% घटकों को अस्वीकार कर दिया गया था। तो निर्माता को कितना नुकसान हुआ है ?

A manufacturer undertakes to supply 2000 pieces of a particular component at ₹ 50 per piece. According to his estimates, even if 5% components fail to pass the quality test, then he will make a profit of 25%. However, as it turned out, 50% of the components were rejected. Then what is the loss to the manufacturer ?

- (A) ₹ 30,000 (B) ₹ 24,000 (C) ₹ 26,000 (D) ₹ 28,000

DZ.U-24

Page 11 of 24

(D) ₹ 28,000

(C) ₹ 26,000

(B) ₹ 24,000

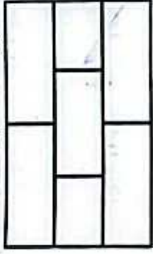
(A) ₹ 30,000

$1900 \times 50 = 95000 \times 4$

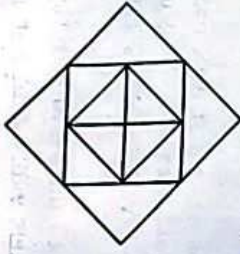
$1000 \times 50 = 50000$

118750

94. एक कार को ₹ 6,400 में बेचने पर श्री राव को 20% की हानि हुई। तो कार का क्रय मूल्य क्या है ?  
By selling a car for ₹ 6,400, Mr. Rao lost 20%. Then the cost price of the car is :  
(A) ₹ 8,400 (B) ₹ 7,200 (C) ₹ 7,680 (D) ₹ 8,000 ✓
95. एक मेज़ पर चार कार्ड रखे गए हैं। प्रत्येक कार्ड पर एक तरफ एक नंबर और दूसरी तरफ एक अक्षर होता है। प्रदर्शन पर कार्ड 3, 8, E और K दिखाते हैं। हमारी आवश्यकता को पूरा करने के लिए किन कार्डों को पलटना चाहिए ?  
'यदि किसी कार्ड में एक तरफ स्वर है, तो दूसरी तरफ एक सम संख्या है।'  
(A) 3 और E (B) 8 और K (C) 3 और K (D) 8 और E ✓
96. Four cards are placed on a table. Each card has a number on one side and a letter on the other. The cards on display show 3, 8, E and K. Which cards must be turned over to satisfy our requirement ?  
'If a card has a vowel on one side, then it has an even number on the other side.'  
(A) 3 and E (B) 8 and K (C) 3 and K (D) 8 and E ✓
97. एक परिवार में 6 सदस्य A, B, C, D, E, F हैं। B, C का बेटा है, लेकिन C, B की माँ नहीं है। A और C विवाहित जोड़ा है। E, C का भाई है। D, A की बेटा है। F, A का भाई है। परिवार में कितनी महिला सदस्य हैं ?  
A family consists of 6 members A, B, C, D, E, F. B is the son of C, but C is not the mother of B. A and C are a married couple. E is the brother of C. D is the daughter of A. F is the brother of A. How many female members are there in the family ?  
(A) 4 (B) 1 (C) 2 (D) 3 ✓
98. यदि 6 आमों की कीमत ₹ 90 है, तो 10 आमों की कीमत क्या है ?  
If the cost of 6 mangoes is ₹ 90, what is the cost of 10 mangoes ?  
(A) ₹ 160 (B) ₹ 120 (C) ₹ 130 (D) ₹ 150 ✓
99. कुछ छात्र यात्रा पर गए और खर्च की जाने वाली कुल नियोजित राशि ₹ 96 थी। हालांकि, 4 छात्र नहीं आए और परिणामस्वरूप शेष छात्रों को ₹ 4 अतिरिक्त योगदान देना पड़ा। यात्रा में भाग लेने वाले छात्रों की संख्या क्या थी ?  
A few students went on a trip and the total amount planned to be spent was ₹ 96. However, 4 students did not turn up and as a result the remaining students had to contribute ₹ 4 extra. The number of students who attended the trip was :  
(A) 6 (B) 8 (C) 10 (D) 12 ✓
100. दी गई आकृति में कितने आयत हैं ?  
How many rectangles are there in the given figure ?  
(A) 17 (B) 13 (C) 14 (D) 15 ✓



100. दिए गए चित्र में त्रिभुजों (ट्रायंगल्स) की संख्या गिनिए।  
Count the number of triangles in the given figure.



(A) 10

(B) 12

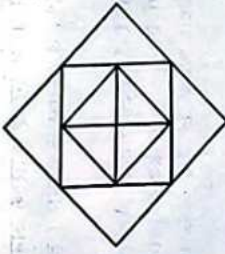

(C) 16

(D) 18

DZ.U-24

Page 12 of 24

94. एक कार को ₹ 6,400 में बेचने पर श्री राव को 20% की हानि हुई। तो कार का क्रय मूल्य क्या है ?  
By selling a car for ₹ 6,400, Mr. Rao lost 20%. Then the cost price of the car is :  
(A) ₹ 8,400 (B) ₹ 7,200 (C) ₹ 7,680 (D) ₹ 8,000 ✓
95. एक मेज़ पर चार कार्ड रखे गए हैं। प्रत्येक कार्ड पर एक तरफ एक नंबर और दूसरी तरफ एक अक्षर होता है। प्रदर्शन पर कार्ड 3, 8, E और K दिखाते हैं। हमारी आवश्यकता को पूरा करने के लिए किन कार्डों को पलटना चाहिए ?  
“यदि किसी कार्ड में एक तरफ स्वर है, तो दूसरी तरफ एक सम संख्या है।”  
(A) 3 और E (B) 8 और K (C) 3 और K (D) 8 और E ✓
96. Four cards are placed on a table. Each card has a number on one side and a letter on the other. The cards on display show 3, 8, E and K. Which cards must be turned over to satisfy our requirement ?  
“If a card has a vowel on one side, then it has an even number on the other side.”  
(A) 3 and E (B) 8 and K (C) 3 and K (D) 8 and E ✓
97. एक परिवार में 6 सदस्य A, B, C, D, E, F हैं। B, C का बेटा है, लेकिन C, B की माँ नहीं है। [A] और C विवाहित जोड़ा है। E, C का भाई है। D, A की बेटी है। F, A का भाई है। परिवार में कितनी महिला सदस्य हैं ?  
A family consists of 6 members A, B, C, D, E, F. B is the son of C, but C is not the mother of B. A and C are a married couple. E is the brother of C. D is the daughter of A. F is the brother of A. How many female members are there in the family ?  
(A) 4 (B) 1 (C) 2 (D) 3 ✓
98. यदि 6 आमों की कीमत ₹ 90 है, तो 10 आमों की कीमत क्या है ?  
If the cost of 6 mangoes is ₹ 90, what is the cost of 10 mangoes ?  
(A) ₹ 160 (B) ₹ 120 (C) ₹ 130 (D) ₹ 150 ✓
99. कुछ छात्र यात्रा पर गए और खर्च की जाने वाली कुल नियोजित राशि ₹ 96 थी। हालांकि, 4 छात्र नहीं आए और परिणामस्वरूप शेष छात्रों को ₹ 4 अतिरिक्त का योगदान देना पड़ा। यात्रा में भाग लेने वाले छात्रों की संख्या क्या थी ?  
A few students went on a trip and the total amount planned to be spent was ₹ 96. However, 4 students did not turn up and as a result the remaining students had to contribute ₹ 4 extra. The number of students who attended the trip was :  
(A) 6 (B) 8 (C) 10 (D) 12 ✓
100. दी गई आकृति में कितने आयत हैं ?  
How many rectangles are there in the given figure ?  
(A) 17 (B) 13 (C) 14 (D) 15 ✓
101. दिए गए चित्र में त्रिभुजों (ट्रायंगल्स) की संख्या गिनिए।  
Count the number of triangles in the given figure.  
(A) 10 (B) 12 (C) 16 (D) 18 ✓



101. दिए गए चित्रों में से, वह चुनिए जो दी गई श्रृंखला को पूरा कर सके।

Out of the figures given, choose the one that will complete the series.



- (A) (B) (C) (D)

102. चार अक्षर-समूह दिए गए हैं, जिनमें से तीन अक्षर-समूह किसी-न-किसी रूप में एक जैसे हैं, जबकि एक अक्षर-समूह अलग है। विषम अक्षर-समूह को चुनिए।

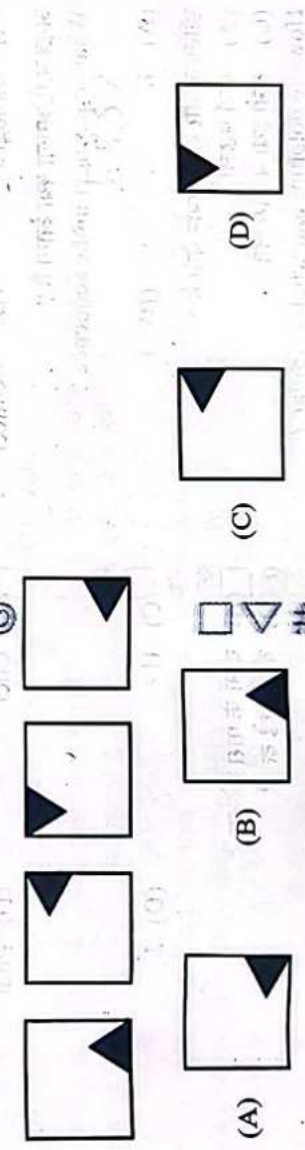
Four letter-clusters have been given out of which three are alike in some manner, while one is different. Choose the odd one.

- (A) BDFH (B) HJLN (C) PRTV (D) OQRT

103. विषम ज्ञात कीजिए।  
Find the odd one.



104. निम्न में से विषम ज्ञात कीजिए :  
Find the odd one from the following :

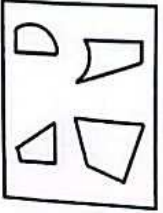


105. श्रृंखला में अगली संख्या ज्ञात कीजिए।  
Find the next number in the series.  
62, 55; 48, 41, \_\_\_

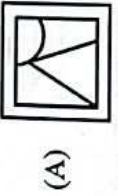
- (A) 36 (B) 34 (C) 32 (D) 38



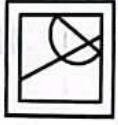
106. ज्ञात कीजिए कि, पहली आकृति (X) में दिए गए टुकड़ों से कौन-सी आकृति बनाई जा सकती है।  
Find out which of the figures can be formed from the pieces given in the first figure (X).



(X)



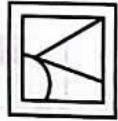
(A)



(B)



(C)



(D)

107. एक लड़की की ओर इशारा करते हुए विपिन कहता है, 'यह लड़की मेरे पिता की इकलौती संतान की बेटी है।' विपिन की पत्नी पार्वती का उस लड़की से क्या संबंध है ?

(A) बहन (B) बेटी

(C) माँ (D) मामी

Pointing towards a girl, Vipin says, "This girl is the daughter of the only child of my father." What is the relation of Vipin's wife Parvathy to that girl ?

(A) Sister (B) Daughter

(C) Mother (D) Aunt

यदि आपके पास एक नियमित पंचभुजीय (पेंटागोनल) प्रिज्म है और आप इसे इसके आधारों (बेसेस) के समानांतर काटते हैं, तो अनुप्रस्थ-काट (क्रॉस-सेक्शन) किस आकार का है ?

(A) पंचभुज (पेंटागन) (B) षड्भुज (हेक्सागॉन)

(C) आयत (रेक्टेंगल) (D) वर्ग (स्वायर)

If you have a regular pentagonal prism and you slice it parallel to its bases, what shape is the cross-section ?

(A) Pentagon (B) Hexagon

(C) Rectangle (D) Square

109. सादृश्य पूरा कीजिए :

कैमरा : फोटोग्राफर :: माइक्रोस्कोप : ?

(A) बायोलॉजिस्ट (B) आर्किटेक्ट

(C) रसाय्या (D) पायलट

Complete the analogy :

Camera : Photographer :: Microscope : ?

(A) Biologist (B) Architect

(C) Chef (D) Pilot

110. अनुक्रम में अगला क्या आता है ?

What comes next in the sequence ?

A, C, E, G, —

(A) K (B) I

(C) H (D) J

111. डॉल्फिन और व्हेल समान कैसे हैं ?

(A) दोनों मछली हैं

(C) दोनों हवा में साँस लेते हैं

How are dolphins and whales similar ?

(A) Both are fish

(C) Both breathe air

(B) Both have scales

(D) Both lay eggs

112. उन अक्षरों की जोड़ी को चुनिए जो समूह में अन्य से भिन्न हो।

Choose the letter pair which is different from others in the group.

(A) MH

(B) GB

(C) TO

(D) OK

113. श्रृंखला : 3, 5, 11, 29, 83, \_\_\_\_\_  
श्रृंखला में अगली संख्या क्या होगी ?

Series : 3, 5, 11, 29, 83, \_\_\_\_\_

What is the next number in the series ?

- (A) 245 (B) 283 (C) 253 (D) 233


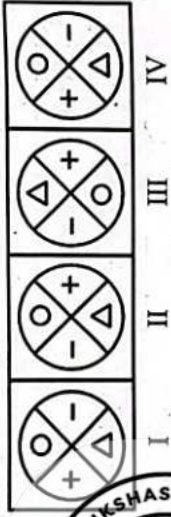
114. दिए गए विकल्पों में से वह शब्द चुनिए जो दिए गए शब्द 'PARANORMAL' के प्रत्येक अक्षर का केवल एक बार प्रयोग करके नहीं बनाया जा सकता।

Choose the word from the given alternatives that cannot be formed using each letter of the given word 'PARANORMAL' only once.

- (A) RARE (B) NORM (C) PALM (D) ROAR

115. अगला चित्र चुनिए जो दिए गए पैटर्न को जारी रखता है।

Choose the next figure that continues the pattern.



116. सादृश्य पूरा कीजिए :

Complete the analogy :

145 : 15<sup>4</sup> :: 532 : ?

- (A) 52<sup>2</sup> (B) 32<sup>5</sup>

Handwritten calculations for question 116:  
52^2 = 2704  
32^5 = 33554432

117. श्रृंखला में लुप्त संख्या ज्ञात कीजिए।

Find the missing number in the series.

20, 35, 60, 105, 190, \_\_\_\_\_

- (A) 355 (B) 225 (C) 280 (D) 560

118. प्रिया 20 मी. पूर्व की ओर चलकर शुरू करती है, फिर बाएँ मुड़ती है और 40 मी. चलती है, फिर दाएँ मुड़ती है और 30 मी. चलती है। अब वह बाएँ मुड़ती है और 40 मी. चलती है। प्रिया अपने आरंभिक बिंदु से कितनी दूर है ?

- (A) 65 मी. (B) 50 मी. (C) 70 मी. (D) 60 मी.

Priya started walking towards east for 20 m, then took left and walked for 40 m, then turned right and walked for 30 m. Now she turns right and walks 40 m. How far is priya from her starting point ?

- (A) 65 m (B) 50 m (C) 70 m (D) 60 m

119. एक साइकिल चालक 12 किलोमीटर पश्चिम की ओर जाता है और फिर दाईं ओर मुड़कर 7 किलोमीटर की दूरी तय करता है। साइकिल चालक अब किस दिशा की ओर जा रहा है ?

- (A) उत्तर (B) पूर्व (C) पश्चिम (D) दक्षिण

A cyclist rides 12 kilometres west and then turns right and rides 7 kilometres. In which direction is the cyclist now travelling ?

- (A) North (B) East (C) West (D) South

DZ.U-24

Page 15 of 14

120. एक स्कूल में कक्षा IX के छात्रों के चार सेक्शन A, B, C, D हैं।

परिणाम	सेक्शन A	सेक्शन B	सेक्शन C	सेक्शन D
दोनों परीक्षाओं में अनुत्तीर्ण छात्र	28	23	17	27
अर्धवार्षिक परीक्षा में अनुत्तीर्ण लेकिन वार्षिक परीक्षा में उत्तीर्ण छात्र	14	12	8	13
अर्धवार्षिक परीक्षा में उत्तीर्ण लेकिन वार्षिक परीक्षा में अनुत्तीर्ण छात्र	6	17	9	15
दोनों परीक्षाओं में उत्तीर्ण छात्र	64	55	46	76

दोनों परीक्षाओं में से किस सेक्शन में उत्तीर्ण प्रतिशत सबसे अधिक है?

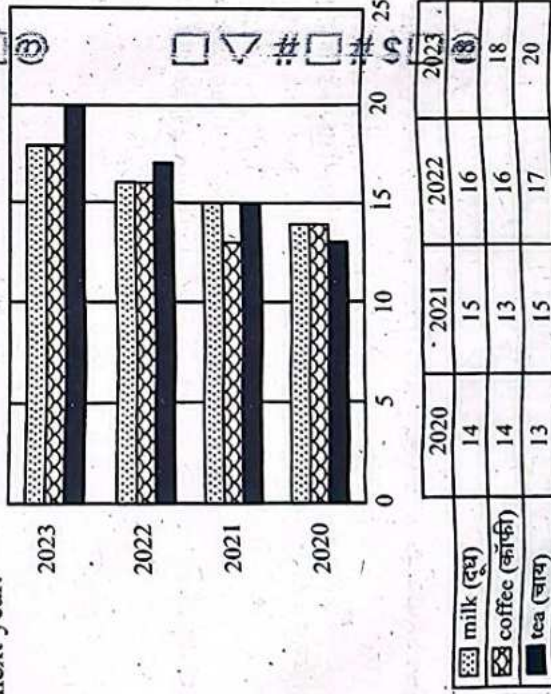
- (A) सेक्शन D (B) सेक्शन A (C) सेक्शन B (D) सेक्शन C
- A school has four sections A, B, C, D of Class IX students.

Result	Section A	Section B	Section C	Section D
Students failed in both exams	28	23	17	27
Students failed in half-yearly but passed in annual exams	14	12	8	13
Students passed in half-yearly but failed in annual exams	6	17	9	15
Student passed in both exams	64	55	46	76

Which section exhibits the highest pass percentage in either of the two examinations?

- (A) Section D (B) Section A (C) Section B (D) Section C

121. ग्राफ का अध्ययन कीजिए और पता लगाइए कि पिछले वर्ष से अगले वर्ष तक चाय की अधिकतम प्रतिशत वृद्धि क्या है। Study the graph and find what is the maximum percentage increase of tea from the previous year to the next year.



(A) 20%

(B) 10%

(C) 30.25%

(D) 17.65%

Page No. of 24





122. दी गई कोड भाषा का उपयोग करके निम्नलिखित अभिव्यक्ति को सरल बनाइए, जहाँ '+' 'x' को दर्शाता है, '-' '÷' को दर्शाता है, 'x' 'x' को दर्शाता है, '÷' '÷' को दर्शाता है।

Simplify the following expression using the given code language, where '+' represents 'x', '-' represents '÷', 'x' represents 'x' and '÷' represents '÷'.

$$9 + 4 - 6 \times 6 \div 8$$

(A) 24

(B) 16

(C) 8

(D) 12

123. यदि H + I का अर्थ है H, I की बहन है; H - I का अर्थ है H, I का भाई है और H x I का अर्थ है H, I की माँ है, तो निम्नलिखित में से किसका अर्थ है कि J, P की बेटी है?

If H + I means H is the sister of I; H - I means H is the brother of I and H x I means H is the mother of I, which of the following means that J is the daughter of P?

(A)  $P \times Q - J + M$

(B)  $P - Q \times J - M$

(C)  $P + Q - J \times M$

(D)  $P - Q \times J + M$

124. निम्नलिखित कोड में, 'LEARNING' को '160' के रूप में लिखा जाता है। उस कोड में 'PREPARATION' कैसे लिखा जाएगा?

In a certain code, 'LEARNING' is written as '160'. How will 'PREPARATION' be written in that code?

(A) 133

(B) 248

(C) 124

(D) 266

125. निम्नलिखित शब्दों को अंग्रेजी शब्दकोश में उनके क्रम के अनुसार व्यवस्थित कीजिए और जो पहले आता है, उसे चुनिए: Arrange the following words as per their order in an English dictionary and choose the one that comes first:

Hardboard; Handspring; Handover; Handstand

(A) Hardboard

(B) Handover

(C) Handspring

(D) Handstand

126. श्रृंखला पूरी कीजिए।

Complete the series.

2, 6, 12, 20, 30, 42, —  
(A) 51 (B) 10 (C) 12 (D) 49

127. शेर गुफा में है जैसे मकड़ी \_\_\_\_\_ में है।

(A) ओसारा (रोड)

(B) जाला

(C) टीला

(D) पेड़

Lion is to in Den as Spider is to \_\_\_\_\_.

(A) Shed

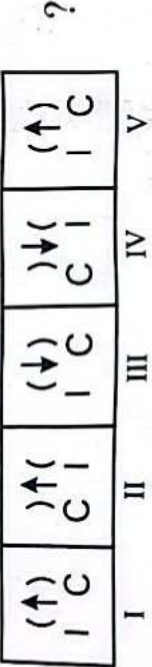
(B) Web

(C) Hill

(D) Tree

128. दी गई आकृतियों का ध्यानपूर्वक अध्ययन कीजिए और उत्तर आकृतियों में से वह विकल्प चुनिए जो प्रश्न आकृतियों में देखे गए पैटर्न को बनाए रखता हो।


Study the provided figures carefully and choose an option from the answer figures that maintains the pattern observed in the problem figures.



- (A) )↑(  
C I
- (B) (↓)  
C I
- (C) (↑)  
I C
- (D) )↓(  
I C

129. निम्नलिखित में से कौन-सा ओख पृथ्वी, समुद्र और सूर्य के बीच के संबंध को सबसे अच्छे ढंग से दर्शाता है ?

Which of the following diagrams best illustrates the relationship between Earth, Sea and Sun ?



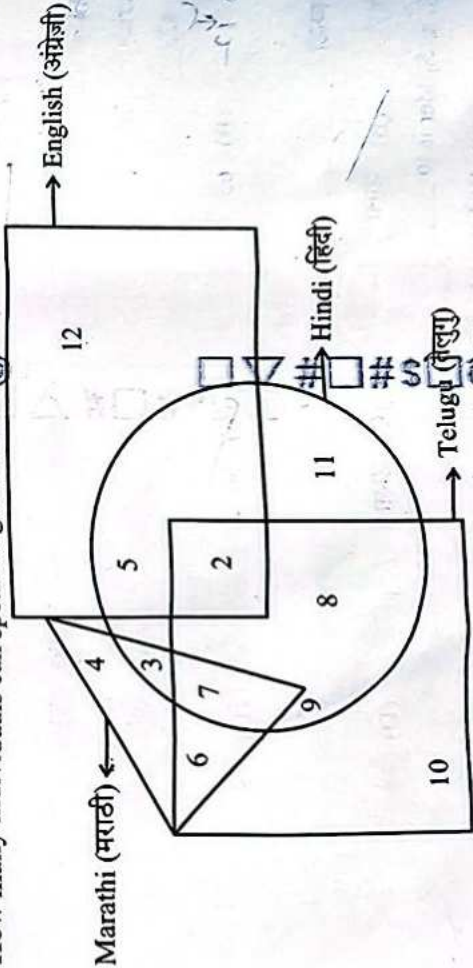
130. दिए गए आरेख में :

- I. आयत उन व्यक्तियों को दर्शाता है जो अंग्रेजी जानते हैं।
  - II. त्रिकोण उन व्यक्तियों को दर्शाता है जो मराठी जानते हैं।
  - III. वर्ग उन व्यक्तियों को दर्शाता है जो तेलुगु जानते हैं।
  - IV. वृत्त उन व्यक्तियों को दर्शाता है जो हिंदी जानते हैं।
- 1 से 12 तक अंकित किए गए क्षेत्र व्यक्तियों के बीच भाषा प्रवीणता के विभिन्न संयोजनों का प्रतिनिधित्व करते हैं। कितने व्यक्ति केवल अंग्रेजी बोल सकते हैं ?

In the given diagram :

- I. Rectangle represents persons who know English.
  - II. Triangle represents persons who know Marathi.
  - III. Square represents persons who know Telugu.
  - IV. Circle represents persons who know Hindi.
- The regions labelled from 1 to 12 represent various combinations of language proficiency among the individuals.

How many individuals can speak English exclusively ?



- (A) 12
- (B) 19
- (C) 5
- (D) 17



14  
131. यदि अक्षरों का क्रम A, F, K, P, 16 है, तो अगला क्या आएगा ?

If the sequence of letters is A, F, K, P, 16, what comes next ?

- (A) W (B) T (C) U (D) V

132. उस विकल्प को चुनिए जिसमें संख्याएँ उसी संबंध को साझा करती हैं जो दिए गए संख्या युग्म द्वारा साझा किया गया है।

Select the option in which the numbers share the same relationship as that shared by the given pair of numbers.

14  
185 : 199 → 19

(A) 89 : 106 (B) 126 : 134

(C) 178 : 187

(D) 139 : 153

133. 8 मीटर आधार और 16 मीटर ऊँचाई वाले त्रिभुज का क्षेत्रफल क्या है ?

What is the area of a triangle with base 8 meters and height 16 meters ?

(A) 64 m<sup>2</sup> (B) 32 m<sup>2</sup>

(C) 128 m<sup>2</sup>

(D) 15 m<sup>2</sup>

134. केवल चाय पसंद करते हैं ?

Only tea is liked by a group of people, 40 like tea, 30 like coffee, and 20 like both tea and coffee, how many people like only tea ?

15 (B) 20

(C) 10

(D) 40

वियम युग्म ज्ञात कीजिए।

(A) भेड़ : मेमना

(C) गाय : बछड़ा

Find the odd pair.

(A) Sheep : Lamb

(C) Cow : Calf

(B) कुत्ता : पिल्ला

(D) कछुआ : कूर्म (टर्टल)

(B) Dog : Puppy

(D) Tortoise : Turtle

40 + 30 - 20 = 50

136. एक आदमी अपनी यात्रा के पहले 200 किमी 80 किमी/घंटा की गति से तय करता है। खराब मौसम के कारण वह अपनी यात्रा के अगले 200 किमी 50 किमी/घंटा की गति से तय करता है। उसकी यात्रा के पहले 400 किमी के लिए उसकी औसत गति क्या है ?

(A) 68.15 किमी/घंटा

(C) 64.15 किमी/घंटा

A man travels the first 200 km of his journey at 80 km/hr. Due to bad weather he travels the next 200 km of his journey at 50 km/hr. What is his average speed for the first 400 km of his journey ?

(A) 68.15 km/hr

(C) 64.15 km/hr

(B) 61.53 km/hr

(D) 58.15 km/hr

$$\frac{2 \times 80 \times 50}{130} = 61.53$$

137. दिए गए विकल्पों में से वह युग्म ज्ञात कीजिए जो दिए गए युग्म के समान है।

प्रक्षेप्य : प्रक्षेप पथ

(A) उपग्रह : कक्षा

(C) टूटता तारा (उल्का) : वातावरण

(B) हवाई जहाज : मार्ग

(D) जहाज : नौटिस (समुद्री मील)

$$\frac{800}{13} = 61$$

From the given options, find the pair which is similar to the given pair.

Projectile : Trajectory

(A) Satellite : Orbit

(C) Shooting star : Atmosphere

(B) Aeroplane : Route

(D) Ship : Knots

138. एक परिवार में, पाँच सदस्य P, Q, R, S और T हैं। P और Q एक विवाहित जोड़ा है, Q महिला सदस्य है। P, R, का इकलौता बेटा है, जिसकी इकलौती बेटि S है। T, S की माँ है। Q, T से कैसे संबंधित है ?

- (A) बहू (B) सास (C) भाभी (D) बेटि

In a family, there are five members P, Q, R, S and T. P and Q are a married couple, Q being the female member. P is the only son of R, whose only daughter is S. T is the mother of S. How is Q related to T ?

- (A) Daughter-in-law (B) Mother-in-law (C) Sister-in-law (D) Daughter

139. श्रृंखला 15, 36, 63, 96, \_\_\_ में अगली संख्या ज्ञात कीजिए।

Find the next number in the series 15, 36, 63, 96, \_\_\_

- (A) 145 (B) 122 (C) 128 (D) 135

140. दिए गए प्रश्न में, चिह्न :: के बायीं ओर अक्षरों के दो सेट हैं जो किसी तरह से जुड़े हुए हैं। अक्षरों के तीसरे सेट और उसके अंतर्गत चार विकल्पों में से एक के बीच भी यही संबंध बनता है। सही विकल्प ज्ञात कीजिए।

In the given question, there are two sets of letters to the left of the sign :: which are connected in some way. The same relationship obtains between the third set of letters and one of the four alternatives under it. Find the correct alternative.

18120 : RAT :: 18914719 : ?

- (A) RICH (B) RINGS (C) RINCH (D) RIMBS

141. Y, X के पूर्व में है, जो P के पूर्व में है। Z, Y के उत्तर-पश्चिम में है। Z की किस दिशा में P है ?

- (A) दक्षिण-पूर्व (B) उत्तर-पूर्व (C) दक्षिण-पश्चिम (D) उत्तर-पश्चिम

Y is in the East of X, which is in the East of P. Z is in the North-West of Y. In which direction of Z is P ?

- (A) South-East (B) North-East (C) South-West (D) North-West

142. एक तस्वीर की ओर इशारा करते हुए डेजी ने कहा, "मेरी कोई बहन नहीं है लेकिन उस आदमी की माँ से पिता की बेटि है।" यह किसकी तस्वीर थी ?

- (A) पति की (B) बेटे की (C) बेटि की (D) उसकी अपनी

Pointing to a photograph Daisy said, "I have no sisters but that man's mother is my father's daughter." Whose photograph was it ?

- (A) Husband's (B) Son's (C) Daughter's (D) Her own

143. रानी पश्चिम की ओर 20 किमी चली, फिर बायीं ओर मुड़ी और 20 किमी चली। वह फिर बायीं ओर मुड़ी और 20 किमी चली। वह अपने बायीं ओर 45 डिग्री घूम गयी और सीधे चली। अब वह किस दिशा में चल रही है ?

- (A) उत्तर-पूर्व (B) पूर्व (C) पश्चिम (D) दक्षिण-पूर्व

Rani went 20 km towards west, then turned left and went 20 km. She again turned left and went 20 km. She took a 45 degree turn towards her left and went straight. In which direction is she walking now ?

- (A) North-East (B) East (C) West (D) South-East



144. निम्नलिखित तालिका पढ़िए और दी गई शर्तों के अनुसार '472938' के लिए प्रासंगिक कोड ज्ञात कीजिए :

अंक	2	5	7	8	9	4	6	3	1
अक्षर कोड	M	R	T	B	W	K	D	N	J

शर्तें :

- यदि संख्या के पहले और अंतिम दोनों अंक विषम अंक हैं, तो दोनों को 'S' के रूप में कोडित किया जाना चाहिए।
- यदि संख्या के पहले और अंतिम दोनों अंक सम अंक हैं, तो दोनों को 'Z' के रूप में कोडित किया जाना चाहिए।
- यदि पहले और अंतिम अंकों में से एक विषम है और दूसरा सम है, तो पहले अंक को 'Q' और अंतिम अंक को 'W' के रूप में कोडित करना होगा।

- (A) KTMWNB (B) ZTWMNZ (C) KTMWNZ (D) ZTMWNZ

Read the following table and find the relevant code for '472938' as per the conditions given :

Digit	2	5	7	8	9	4	6	3	1
Letter code	M	R	T	B	W	K	D	N	J

Conditions :

- If both the first and last digits of the number are odd digits, then both are to be coded as 'S'.
- If both the first and last digits of the number are even digits, then both are to be coded as 'Z'.
- If one among the first and last digits is odd and the other one is even, then the first digit has to be coded as 'Q' and the last digit as 'W'.

- (A) KTMWNB (B) ZTWMNZ (C) KTMWNZ (D) ZTMWNZ

145. असमान संख्या ज्ञात कीजिए।

Find the dissimilar number.

9271, 8482, 7633, 6724, 5745

- (A) 6724 (B) 5745

146. निम्नलिखित में से कौन-सी संख्या शेष से भिन्न है ?

Which of the following numbers is different from the rest ?

13, 17, 23, 27, 29

- (A) 27 (B) 13

147. यदि धारा के विपरीत चलने वाली नाव की गति 18 किमी/घंटा है, तो धारा की गति क्या है, यदि धारा की दिशा में नाव की गति इसकी विपरीत दिशा वाली गति से 50% अधिक है ?

- (A) 4.5 किमी प्रति घंटा  
(B) 4.8 किमी प्रति घंटा  
(C) 4.6 किमी प्रति घंटा  
(D) 5.2 किमी प्रति घंटा

If the speed of a boat moving against the current is 18 km/hr, what is the speed of the stream if the boat's speed downstream is 50% greater than its speed upstream ?

- (A) 4.5 kmph  
(B) 4.8 kmph  
(C) 4.6 kmph  
(D) 5.2 kmph

DZ.U-24

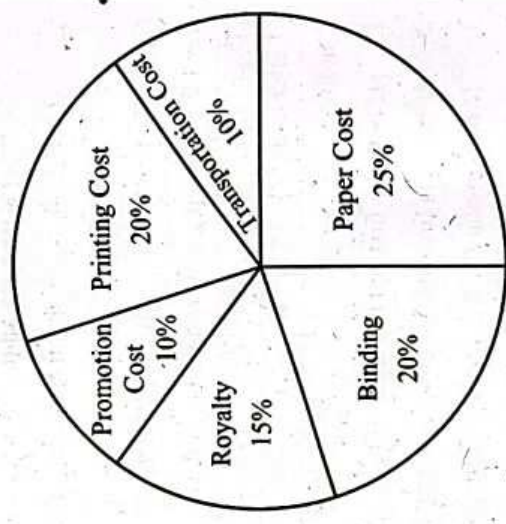
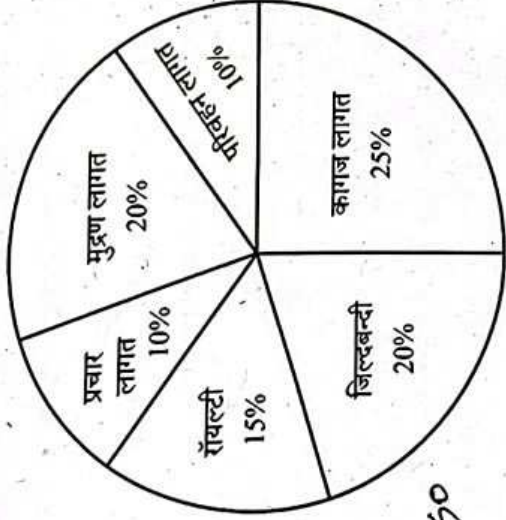
Page 21 of 24

148. निम्नलिखित पाई-चार्ट एक पुस्तक के प्रकाशन में किए गए व्यय का प्रतिशत वितरण दर्शाता है। पाई-चार्ट का अध्ययन कीजिए और उसके आधार पर प्रश्न का उत्तर दीजिए।

The following pie-chart shows the percentage distribution of the expenditure incurred in publishing a book. Study the pie-chart and the answer the question based on it.

किसी पुस्तक के प्रकाशन में होने वाले विभिन्न व्यय (प्रतिशत में)

Various Expenditures (in percentage) Incurred in Publishing a Book



यदि किसी पुस्तक का अंकित मूल्य लागत मूल्य से 40% अधिक निर्धारित किया गया है, और अंकित मूल्य ₹ 280 है, तो पुस्तक की एक प्रति में प्रयुक्त कागज की लागत क्या है ?

If the marked price of a book is set at 40% above the cost price, and the marked price is ₹ 280, what is the cost of the paper used in one copy of the book ?

- (A) ₹ 50 (B) ₹ 40 (C) ₹ 60 (D) ₹ 30

149. नीचे दी गई अक्षर श्रृंखला के अनुसार प्रश्न का उत्तर दीजिए।

HDYSMWNBPQOCRTBLZVEGUF

दी गई व्यवस्था में कौन-से दो पड़ोसी वर्णमाला क्रम में सबसे दूर हैं ?

- (A) V और E (B) B और Q (C) D और Y (D) U और F

Answer the question according to the letter series given below.

HDYSMWNBPQOCRTBLZVEGUF

Which two neighbours in the given arrangement are farthest in the alphabetical order ?

- (A) V and E (B) B and Q (C) D and Y (D) U and F

22 - 5 = 17, 25 - 2 = 23

150. यदि आप शब्द 'INFORMATION' के 1, 5, 6 और 8 वें अक्षरों का उपयोग करके ठीक एक अर्थपूर्ण अंग्रेजी शब्द बना सकते हैं, तो उस शब्द का चौथा अक्षर क्या होगा ?

If you can form exactly one meaningful English word using the 1<sup>st</sup>, 5<sup>th</sup>, 6<sup>th</sup> and 8<sup>th</sup> letters of the word 'INFORMATION', what will be the fourth letter of that word ?

- (A) I (B) M (C) T (D) R

I R M T

